
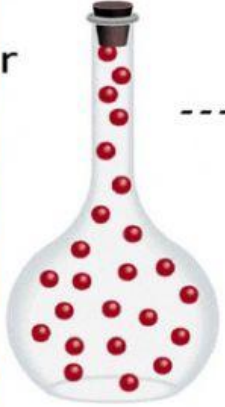
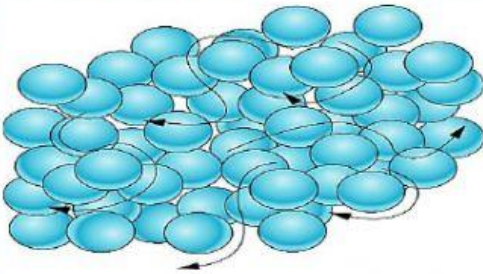




أكتب حالة المادة الممثلة بطريقة النموذج العلمي للجزيئات :



أجب عن التساؤلات الواردة في الحافظات أدناه حول الصور المعروضة :



الحالة التي تظهرها طريقة ترتيب الجزيئات هي:

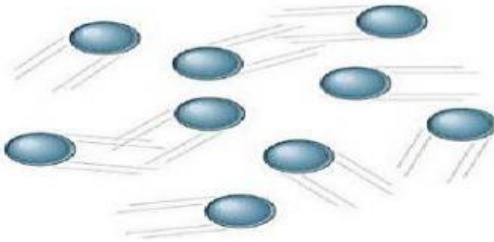
الصلبة السائلة الغازية

صف طريقة ترتيب الجزيئات كما تظهر:

جزيئاته متلاصقة بشدة وتهتز في مكانها.

جزيئاته متقاربة ومنزقة على بعضها البعض.

جزيئاته متباعدة ومنتشرة.



الحالة التي تظهرها طريقة ترتيب الجزيئات هي:

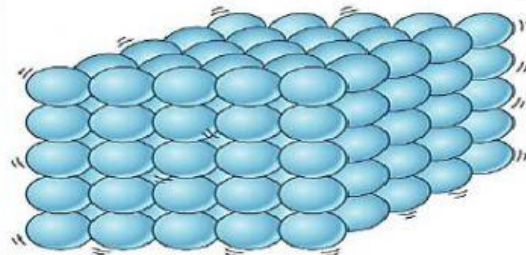
الصلبة السائلة الغازية

صف طريقة ترتيب الجزيئات كما تظهر:

جزيئاته متلاصقة بشدة وتهتز في مكانها.

جزيئاته متقاربة ومنزقة على بعضها البعض.

جزيئاته متباعدة ومنتشرة.



الحالة التي تظهرها طريقة ترتيب الجزيئات هي:

الصلبة السائلة الغازية

صف طريقة ترتيب الجزيئات كما تظهر:

جزيئاته متلاصقة بشدة وتهتز في مكانها.

جزيئاته متقاربة ومنزقة على بعضها البعض.

جزيئاته متباعدة ومنتشرة.