

LKPD Matematika Mengenal Bangun Datar

MATEMATIKA

Abc

$$1+3$$




Ulin Fatimatuz Zahro

Match The Shapes

Tarik garis sesuai dengan objek gambar





Menarik Garis

Tariklah garis sesuai dengan nama bangun datar!



 lingkaran



 Trapesium



 Jajar Genjang



 persegi panjang




 segitiga



 persegi

BANGUN DATAR


Tuliskan jumlah sisi dan sudut bangun datar di bawah iniii.....!!!



PERSEGI

Sisi: _____


Sudut: _____



LINGKARAN

Sisi: _____

Sudut: _____



SEGITIGA

Sisi: _____

Sudut: _____



JAJAR
GENJANG

Sisi: _____

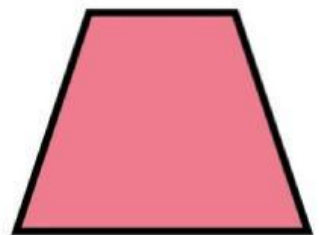
Sudut: _____



PERSEGI
PANJANG

Sisi: _____

Sudut: _____



TRAPESIUM

Sisi: _____

Sudut: _____