

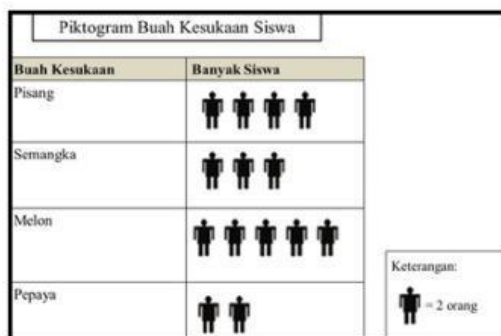
SOAL EVALUASI

Nama Siswa :

No. Absen :

Pilihan Ganda

1. Bentuk sajian data pada gambar tersebut adalah



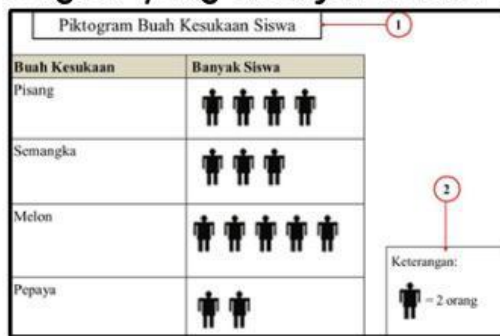
- A. piktogram
- B. diagram batang
- C. diagram lingkaran
- D. instagram

2. Bagian yang ditunjuk nomor 1 pada gambar tersebut adalah




- A. nilai data
- B. judul piktogram
- C. kategori data
- D. keterangan gambar

3. Bagian yang ditunjuk nomor 2 pada gambar tersebut adalah ...



- A. kategori data
- B. keterangan gambar
- C. nilai data
- D. judul pictogram

4. Pada pictogram di bawah, satu gambar mewakili




- A. 1 orang
- B. 20 orang
- C. 10 orang
- D. 100 orang

5. Dari diagram gambar ini, banyaknya siswa yang memiliki nilai 90 ada ... anak.



- A. 3
- B. 15
- C. 5
- D. 25

6. Berdasarkan diagram berikut, jumlah orang yang suka tennis ada ... orang.



- A. 80
- B. 20
- C. 40
- D. 4

7. Jika setiap gambar mewakili 30 siswa, maka siswa yang memiliki nilai 8 ada



- A. 30
- B. 80
- C. 40
- D. 120

8. Jika setiap gambar mewakili 20 kg beras, maka banyaknya beras pada hari ke-4 adalah ... kg.



- A. 60
- B. 600
- C. 120
- D. 1200

9. Banyaknya siswa yang memiliki nilai 6 adalah

Nilai Ulangan Matematika Siswa Kelas Enam

Nilai	Banyak Siswa
4	☹ ☹ ☹
5	☹ ☹ ☹ ☹
6	☹ ☹ ☹ ☹
7	☹ ☹ ☹ ☹ ☹ ☹
8	☹ ☹ ☹ ☹ ☹ ☹ ☹ ☹
9	☹ ☹ ☹ ☹ ☹ ☹
10	☹ ☹ ☹
Keterangan	☹ ☹ = 2 orang

- A. 2
- B. 4
- C. 3
- D. 8

10. Banyaknya sampah daur ulang berupa plastik ada





SAMPAH DAUR ULANG	
Benda	Banyak Benda
Plastik	
Kaleng	
Kaca	
Kardus	

1 gambar mewakili 4 buah

- A. 28
- B. 14
- C. 24
- D. 7

Isian

Perhatikan piktogram tentang isi tong daur ulang berikut!

Benda	Banyak Benda
Plastik	
Kaleng	
Kaca	
Kardus	

Keterangan: 1 gambar mewakili 2 buah benda.

1. Banyak kardus pada tong daur ulang ada buah.
2. Banyak kaleng pada tong daur ulang ada buah.
3. Banyak kaca pada tong daur ulang ada buah.
4. Benda yang paling banyak terdapat dalam tong daur ulang yaitu
5. Jumlah keseluruhan benda dalam tong daur ulang ada buah.