

LEMBAR KERJA PESERTA DIDIK

PRABILANGAN

Pilihlah satu jawaban yang paling benar dari soal berikut ini!

1 Kamu ingin membeli 3 kg jeruk dengan harga Rp. 15.000/kg. Berapa total uang yang harus kamu bayar?

- ☐ A Rp. 30.000 ☐ C Rp. 60.000
☐ B Rp. 45.000 ☐ D Rp. 75.000

2 Sebuah toko menawarkan diskon 15% untuk pembelian sepatu. Harga sepatu sebelum diskon adalah Rp. 250.000. Berapa harga sepatu setelah diskon?

- ☐ A Rp. 212.500 ☐ C Rp. 237.500
☐ B Rp. 225.000 ☐ D Rp. 250.000

3 Kamu ingin membuat 2 liter jus jeruk. Setiap liter jus membutuhkan 5 buah jeruk. Berapa total buah jeruk yang kamu butuhkan?

- ☐ A 5 buah ☐ C 15 buah
☐ B 10 buah ☐ D 20 buah

4 Sebuah mobil melaju dengan kecepatan 80 km/jam. Berapa jarak yang ditempuh mobil dalam waktu 3 jam?

- ☐ A 160 km ☐ C 320 km
☐ B 240 km ☐ D 400 km

5 Kamu ingin menukarkan uang Rupiah ke Dolar Amerika. Kurs saat ini adalah Rp14.500,- per USD. Berapa USD yang bisa kamu dapatkan dengan Rp725.000?

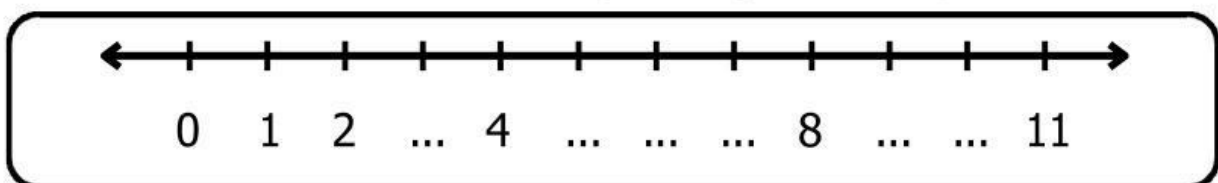
- ☐ A 40 USD ☐ C 60 USD
☐ B 50 USD ☐ D 70 USD

GARIS BILANGAN

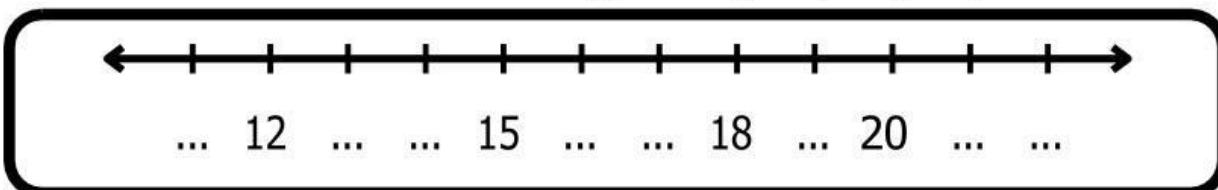
Lengkapilah garis bilangan berikut dengan bilangan yang benar!



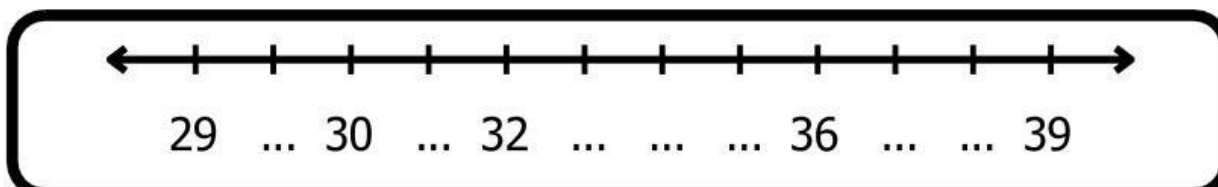
1. Isilah titik-titik berikut dengan angka 0 sampai 11!



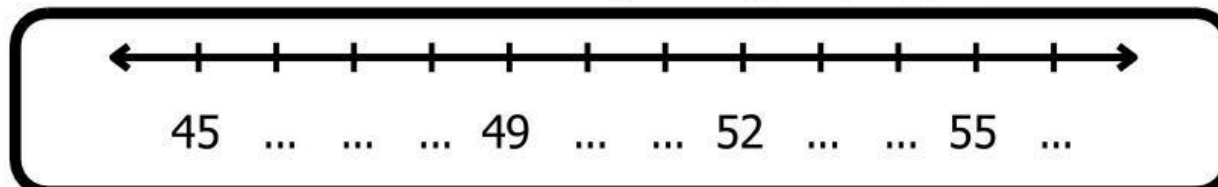
2. Isilah titik-titik berikut dengan angka yang tepat!



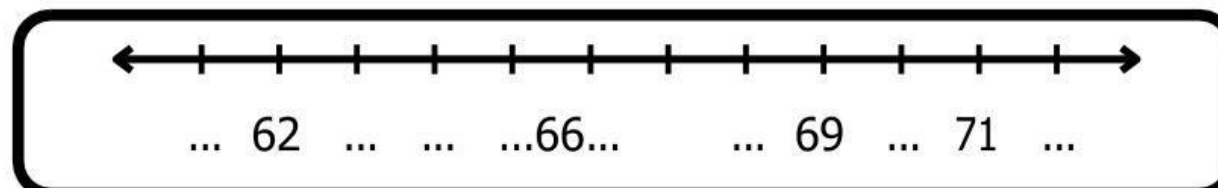
3. Isilah titik-titik berikut dengan angka 29 sampai 39!



4. Isilah titik-titik berikut dengan angka yang tepat!



5. Isilah titik-titik berikut dengan angka yang tepat!



Belajar Menulis Nominal Uang

Tulislah nominal uang pada tabel yang sudah disediakan pada kolom jawaban dengan benar!

Rp 5.000

Rp 1.500

Rp 500

Rp 1.000

Rp 5.500

Rp 9.000

Rp 8.500

Rp10.500

Rp 4.500

Rp 10.000