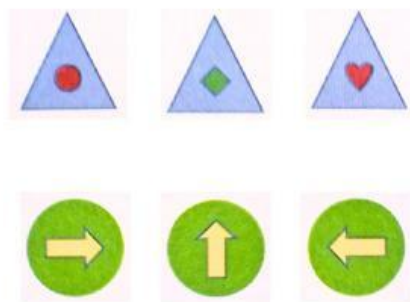



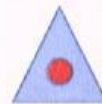








## Mari Berlatih

### Mengenali dan Melengkapi Pola

Perhatikan pola-pola berikut dengan saksama. Lengkapilah pola-pola berikut dengan gambar yang tepat.



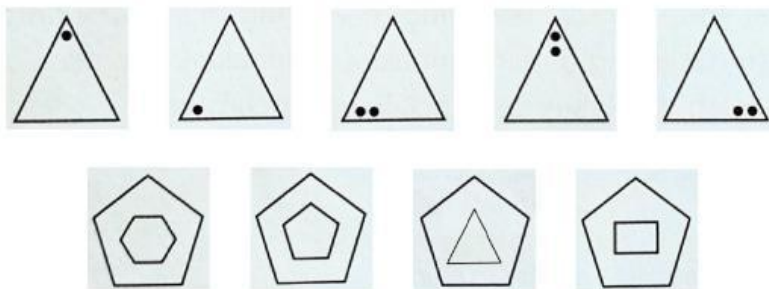
1						
2						



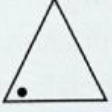
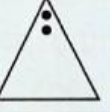
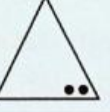

---



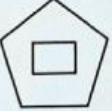

## Mari Berlatih

### Melengkapi Pola Gambar dan Angka

Perhatikan pola-pola berikut dengan saksama. Lengkapilah pola-pola berikut dengan gambar dan angka yang tepat.



1.      

2.    

3. 1, 5, 25, 125, . . . , . . .
4. 1, 4, 9, 16, 25, . . . , . . .
5. 1, 3, 5, 7, 9, . . . , . . .
6. 800, 400, 200, 100, . . . , . . .
7. 2, 4, 8, 16, . . . , . . .
8. 5, 20, 10, 30, 15, 40, . . . , . . .

## Mari Mencoba

### Mengamati Pola di Lingkungan Sekitar

Perhatikan lingkungan di sekitarmu. Temukan pola-pola yang ada di lingkungan. Misalnya, pola pada lagu kesukaanmu, pola pada kegiatanmu, atau pola pada benda di sekitarmu. Tulislah di buku tugasmu. Perhatikan contoh berikut.

No	Pola
1	Acara kartun kesukaan Adik ditayangkan setiap hari Sabtu pukul 08.00.
2	Ayah membaca koran setiap hari sebelum makan pagi.
3	Seragam batik memiliki pola gambar bunga dan daun.
4	
5	

## Mari Mencoba

### Mengidentifikasi Abstraksi

Perhatikan gambar berikut.



Ayah sedang mengajari Aldi bersepeda. Apa yang perlu Aldi ketahui agar dapat bersepeda? Berilah tanda centang (✓) pada jawabanmu. Jawaban dapat lebih dari satu.

- ☐ Cara mengayuh sepeda.
- ☐ Cara memperbaiki sepeda.
- ☐ Sistem kerja roda sepeda.
- ☐ Cara menjaga keamanan saat bersepeda.



## Mari Mencoba

### Menentukan Abstraksi Persiapan Renang

Keluarga Rani akan berlibur ke daerah pegunungan. Mereka akan menginap di sebuah penginapan. Kata Ibu, di penginapan ada kolam renang. Rani dan Adik sangat senang sekali. Ibu meminta bantuan Rani menyiapkan peralatan yang diperlukan Rani dan Adik untuk berenang.

Ayo, bantu Rani menyiapkan benda-benda yang diperlukan untuk persiapan berenang. Berilah tanda centang (✓) pada jawabanmu. Jawaban lebih dari satu.

- |  |  |
|--|--|
| <input type="checkbox"/> Handuk        | <input type="checkbox"/> Pulpen          |
| <input type="checkbox"/> Baju renang   | <input type="checkbox"/> Buku            |
| <input type="checkbox"/> Boneka        | <input type="checkbox"/> Jaket           |
| <input type="checkbox"/> Ban pelampung | <input type="checkbox"/> Kacamata Renang |

## Refleksi

Apakah kamu sudah memahami materi yang diajarkan? Berilah tanda centang (✓) sesuai dengan hasil belajarmu.

No	Aku Sudah Bisa	Ya	Tidak
1	Menjelaskan algoritma.		
2	Membuat algoritma kegiatan sehari-hari.		
3	Menjelaskan urutan (sequence) dalam algoritma.		
4	Menjelaskan dekomposisi.		
5	Melakukan dekomposisi kegiatan sehari-hari.		
6	Menentukan pola dalam kegiatan sehari-hari.		
7	Melengkapi pola.		
8	Menjelaskan konsep berpikir komputasional untuk menghasilkan solusi yang dapat menyelesaikan persoalan sehari-hari.		
9	Menerapkan konsep berpikir komputasional untuk menghasilkan solusi yang dapat menyelesaikan persoalan sehari-hari.		

Aku ingin lebih tahu tentang: