



WORLD CLASS ISLAMIC UNIVERSITY
UNISSULA
UNIVERSITAS ISLAM SULTAN AGUNG

**TUGAS KELOMPOK 4 UAS MK.
INOVASI PEMBELAJARAN PD
BERBASIS TEKNOLOGI
E-LKPD
LIVEWORKSHEET
MAHASISWA MAGISTER
PENDIDIKAN SEKOLAH DASAR**

**Dosen Pengampu :
Dr. Rida Fironika, M.Pd**

E-LKPD

MATEMATIKA



KELAS 5

BANGUN RUANG

2025

2 3 4

2 3 4
LIVEWORKSHEETS

LANGKAH MENERJAKAN E-LKPD

klik link yang
sudah dishare
oleh guru

mulai bermain
mengerjakan E-LKPD
Liveworksheet
menggunakan android

setelah selesai
mengisi save
jawaban lalu
mengisi nama dan
kelas


dengarkan
instruksi yang
disampaikan
oleh guru

lihat hasil penilaian
yang sudah kalian
kerjakan



TRI HANDAYANI, S.Pd
CITRA HAPSARI EKANDARI, S.Pd
IDHA SLAMET ANDRIYANI, S.Pd

perhatikan video pembelajaran
dibawah ini tentang bangun
ruang




perhatikan gambar dibawah ini ! jawablah sesuai
dengan gambarnya
apa nama bangun diobawah ini?




perhatikan gambar dibawah ini ! Jodohkan rumus volume bangun ruang sesuai gambarnya




 Volume = $\frac{1}{3} \times \text{Luas alas} \times \text{Tinggi}$




 $V = S \times S \times S$




 $V = : \pi \times r^2 \times t$





 $V = P \times l \times t$



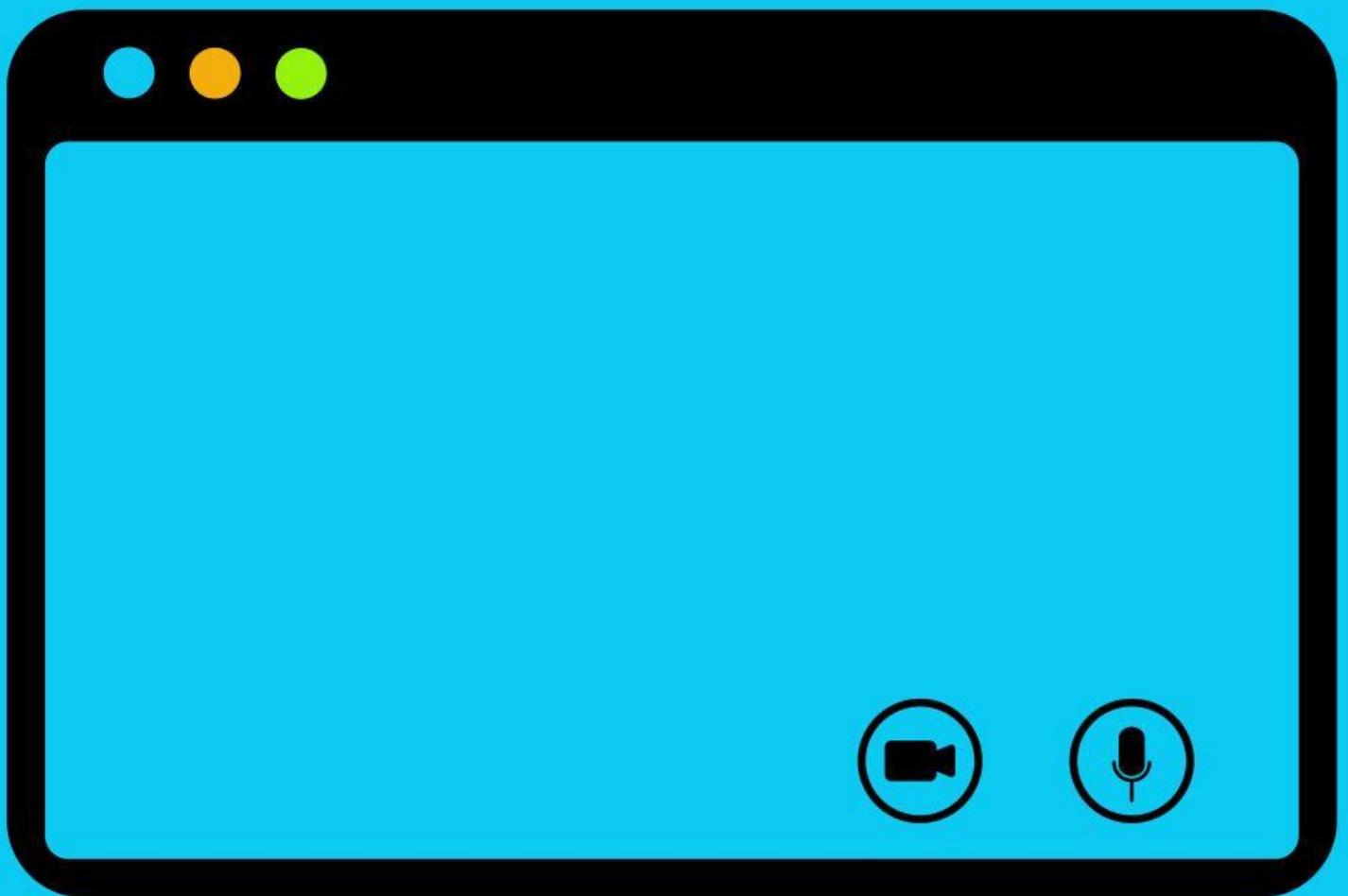
 Volume = Alas x tinggi

perhatikan gambar dibawah ini

Tuliskan berapa sisi dan sudut dari masing-masing gambar dibawah ini



PERHATIKAN VIDEO PEMBELAJARAN
DIBAWAH INI UNTUK MENCARI VOLUME
KUBUS DAN BALOK



kerjakan soal dibawah ini dengan tepat dan benar! hitung volume dari bangun dibawah ini !

