

## LEMBAR KERJA PESERTA DIDIK CIRI-CIRI MAKHLUK HIDUP

NAMA	
KELAS	

### I. Pilihlah satu jawaban yang benar!

1. Di antara contoh berikut ini manakah yang termasuk makhluk hidup ...
  - a. Batu
  - b. Burung elang
  - c. Air
  - d. Kelereng
2. Di antara contoh berikut ini manakah yang termasuk benda tak hidup ...
  - a. Kucing
  - b. Pintu kayu
  - c. Ayam
  - d. Ulat
3. Di antara karakteristik/ciri berikut ini manakah yang bukan termasuk ciri-ciri makhluk hidup ...
  - a. Ukuran
  - b. Pertambahan ukuran
  - c. Bergerak
  - d. Bernapas
4. Tanaman jati menggugurkan daunnya pada musim kemarau untuk bisa bertahan hidup, hal itu merupakan ciri ....
  - a. Berkembang biak
  - b. Bergerak
  - c. Peka terhadap rangsang
  - d. menyesuaikan diri terhadap lingkungan
5. Di antara contoh berikut ini yang termasuk proses perkembangan ialah....
  - a. Bertambah tinggi
  - b. Kucing bertambah pintar
  - c. Kucing bertambah gemuk
  - d. Kucing bertambah panjang tubuhnya
6. Beberapa makhluk hidup mempunyai ciri yang tidak sama dengan makhluk hidup lainnya. Di bawah ini semua dilakukan oleh semua makhluk hidup, kecuali.....
  - a. berkembang biak
  - b. peka terhadap rangsangan
  - c. fotosintesis
  - d. Tumbuh
7. Pernyataan berikut ini yang *bukan* merupakan ciri makhluk hidup adalah ....
  - a. dapat berbicara
  - b. berkembang biak
  - c. memerlukan oksigen
  - d. peka terhadap rangsang
8. Makhluk hidup berbeda dengan benda mati, karena makhluk hidup ....
  - a. dapat berubah ukuran
  - b. memiliki gejala hidup
  - c. dapat bergerak
  - d. dapat berpindah tempat
9. Tumbuhan memerlukan mineral dari air untuk hidupnya. Hal ini menunjukkan bahwa tumbuhan ....
  - a. tumbuh
  - b. berkembang biak
  - c. memerlukan makanan
  - d. peka terhadap rangsang

10. Ikan bertelur dan sapi melahirkan anak. Hal tersebut menunjukkan bahwa makhluk hidup ....

- berkembang biak
- bergerak
- memerlukan makanan
- peka terhadap rangsang

11. Tumbuhan putri malu daunnya akan mengatup jika disentuh. Hal ini menunjukkan salah satu ciri makhluk hidup, yaitu ....

- bernapas
- tumbuh
- bergerak
- peka terhadap rangsang

12. Peristiwa mekarnya kuncup bunga menunjukkan bahwa makhluk hidup ....

- bergerak
- bernapas
- beradaptasi
- bereproduksi



13. Gambar di atas menunjukkan salah satu ciri makhluk hidup, yaitu ....

- tumbuh
- bergerak
- berkembang biak
- memerlukan makanan

14. Sebagai makhluk hidup, tumbuhan juga melakukan gerak. Tumbuhan dapat bergerak karena ....

- rangsangan dari dalam dan luar tumbuhan
- makanan yang diproduksinya
- pengaruh angin yang menerpanya
- memiliki alat gerak aktif

15. Pernyataan berikut yang menunjukkan bahwa makhluk hidup memiliki ciri bergerak adalah ....

- seekor ular mengeluarkan racun
- telur ayam menetas setelah dierami 21 hari
- tumbuhan karet mengeluarkan getah jika disadap
- jika disentuh, daun putri malu akan mengatup

16. Laron akan terbang mengerumuni cahaya. Hal ini menunjukkan ciri makhluk hidup, yaitu ....

- berkembang biak
- bernapas
- tumbuh
- peka terhadap rangsang

17. Iwan menangkap seekor belalang, kemudian menyimpannya dalam toples tertutup rapat. Keesokan harinya belalang tersebut telah mati. Ciri makhluk hidup yang harus diperhatikan Iwan adalah ....

- makan
- tumbuh
- bernapas
- berkembang biak



18. Perhatikan gambar di atas!

- tumbuh dan berkembang
- berkembang biak
- beradaptasi terhadap lingkungan
- memerlukan makan

19. Menutupnya daun putri malu bila disentuh, Bertambahnya besarnya batang jambu biji, Berbuahnya pada tanaman mangga.


Ciri makhluk hidup yang dilakukan oleh tanaman ini secara berurutan adalah ....

- a. peka terhadap rangsangan, tumbuh, dan berkembangbiak
- b. bergerak, peka terhadap rangsangan, dan berkembangbiak
- c. beradaptasi, peka terhadap rangsangan, dan berkembangbiak
- d. peka terhadap rangsangan, memerlukan makanan, dan berkembangbiak

20. Aktivitas makhluk hidup di bawah ini yang menunjukkan ciri makhluk hidup memerlukan makanan adalah...

- a. Kupu-kupu menghisap madu
- b. Kerbau berkubang di lumpur
- c. Rusa berlari kencang di padang rumput
- d. Burung jalak bali berkicau dengan suara merdu

**II. Tentukan ciri yang dimiliki sesuai gambar!**



	
	
	
	
	
	
	

III. Identifikasi dan kelompokkan benda-benda berikut !



BENDA HIDUP	BENDA TAK HIDUP

IV. AMATI CIRI YANG DIMILIKI PADA GAMBAR, KLIK HASIL PENGAMATANNYA PADA TABEL!

CIRI-CIRI		
BERNAPAS		
BERGERAK		
TUMBUH DAN BERKEMBANG		

<b>BERKEMBANGBIAK</b>		
<b>MEMERLUKAN NUTRISI</b>		
<b>MENGELUARKAN ZAT SISA</b>		
<b>IRITABILITAS</b>		