

PERKALIAN & PEMBAGIAN




NAMA :

KELAS :


ISILAH SOAL DI BAWAH INI DENGAN BENAR!

1.




• 24

2.



• 6

3.



• 15



PERKALIAN & PEMBAGIAN



4. Irsyad hobi mengumpulkan stiker setiap harinya. Setiap hari, ia dapat mengumpulkan 7 stiker. Berapakah jumlah stiker yang dapat dikumpulkan Irsyad selama 7 hari?

- a. 21 c. 49
b. 75 d. 65

5. Di rumah Andin terdapat 4 kamar tidur, setiap kamar memiliki 2 jendela. Berapa jumlah jendela di semua kamar rumah Andin?

- a. 17 c. 12
b. 5 d. 8

6. Kakak mempunyai 35 permen. Permen tersebut akan dibagikan kepada 5 temannya sama banyak. Berapa permen yang diterima tiap anak?

- a. 7 c. 8
b. 4 d. 3

7. Bu Gina mempunyai usaha warung makan. Hari ini membuat 84 tempe goreng. Ia meletakkan tempe goreng itu di atas 6 piring secara sama rata. Jadi masing-masing piring akan terisi tempe goreng sebanyak tempe.

- a. 21 c. 7
b. 14 d. 9

8.  \div  $=$ 

9.  \div  $=$ 

10.  \div  $=$ 

