































☁️ ใบงานที่ 4 ประเภทเครื่องดื่มและการตากแห้งแก้ว ☁️

รายวิชา ง22103 การงานอาชีพ 2 ครูจิรกฤต คูไพริน

ตอนที่ 1 คำชี้แจง ให้นักเรียนศึกษาส่วนประกอบของเครื่องดื่ม และลากชื่อไปใส่ให้ถูกต้อง

น้ำพืชน์	โกโก้	น้ำตะไคร้	น้ำโซดา	น้ำโคล่า
นมเปรี้ยว	น้ำหวาน	น้ำกระเจี๊ยบ	น้ำผลไม้	มอลต์

 +  + 	_____	 +  + 	_____
 +  + 	_____	 +  + 	_____
 +  + 	_____	 +  + 	_____
 +  + 	_____	 +  + 	_____
 +  + 	_____	 +  + 	_____

ตอนที่ 2 คำชี้แจง ให้นักเรียนเลือกตี๊กหน้าข้อความที่กล่าวถูกต้อง

- _____ 1. นมพาสเจอร์ไรซ์ เป็นนมที่มีอายุการเก็บรักษาได้นานกว่าประเภทอื่น ๆ
- _____ 2. ผักและผลไม้ที่มีสีแดง มักจะมีสารที่ชื่อว่า "ไลโคปีน" อยู่ค่อนข้างเยอะ
- _____ 3. ควรเสิร์ฟเครื่องดื่มร้อนและเป็นในปริมาณ 3/4 ของแก้ว
- _____ 4. จัดเสิร์ฟเครื่องดื่มไว้ทางซ้ายมือของผู้รับบริการเสมอ
- _____ 5. ของที่ใช้ตากแห้งเครื่องดื่ม ควรสอดคล้องและไปด้วยกันได้ดีกับเครื่องดื่ม

🌸 ใบงานที่ 5 อุปกรณ์ในการประกอบเครื่องดื่มและประเภทของแก้ว 🌸

รายวิชา ง22103 การงานอาชีพ 2 ครูจิรกฤต คุไพริน

ตอนที่ 1 คำชี้แจง ให้นักเรียนนำชื่อวัสดุและอุปกรณ์ในการประกอบเครื่องดื่มมาใส่หน้าข้อให้ถูกต้อง

เชียง

ที่คั้นน้ำผลไม้

มีดแกะสลัก

ช้อนคน

ผ้าขาวบาง

ถ้วยตวงของเหลว

หม้อเคี่ยว

จานรองแก้ว

_____ 1. ฉันทคืออะไร? ถ้าฉันสามารถบอกปริมาตรของนมจัดได้

_____ 2. ฉันทคืออะไร? ถ้าฉันสามารถทำให้แคร์รอตมีรสชาติเป็นใบไม้ที่อร่อยได้

_____ 3. ฉันทคืออะไร? ถ้าฉันสามารถกรองกากใบชาออกจากน้ำชาได้

_____ 4. ฉันทคืออะไร? ถ้าฉันสามารถแยกน้ำมะนาวออกจากผลมะนาวได้

_____ 5. ฉันทคืออะไร? ถ้าฉันสามารถทำให้น้ำหวานกับน้ำเปล่าในแก้วละลายเข้ากันได้

_____ 6. ฉันทคืออะไร? ถ้าฉันสามารถใส่น้ำและดอกเก๊กฮวยเพื่อต้มน้ำสมุนไพรได้

_____ 7. ฉันทคืออะไร? ถ้าฉันสามารถทำให้โต๊ะไม่เลอะหยดน้ำที่ออกมาจากแก้วได้

_____ 8. ฉันทคืออะไร? ถ้าฉันสามารถมีหลายสีได้ และแบ่งใช้ตามประเภทของวัสดุได้

ตอนที่ 2 คำชี้แจง ให้นักเรียนนำรูปแก้วน้ำไปใส่ตามชื่อแต่ละประเภทให้ถูกต้อง



Hurricane Glass

Highball Glass

Old Fashioned Glass

Cocktail Glass

Iced Tea Glass

Flute Glass