

Lembar Kerja Peserta Didik Pembelajaran 1

LKPD

Ilmu Pengetahuan Alam dan Sosial

Mengapa kita harus makan dan minum

Nama

Anggota

kelompok:

Kelas:



Capaian Pembelajaran

Peserta didik melakukan simulasi dengan menggunakan gambar/bagan/alat/media sederhana tentang sistem organ tubuh manusia (sistem pencernaan) yang dikaitkan dengan cara menjaga kesehatan organ tubuhnya dengan benar.

Tujuan Pembelajaran

1. Menganalisis proses pencernaan pada manusia (C4)
2. Menjelaskan organ pencernaan pada manusia (C2)
3. Menganalisis fungsi pencernaan pada manusia (C4)

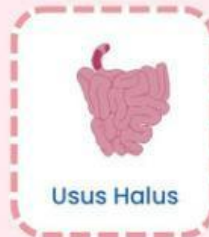
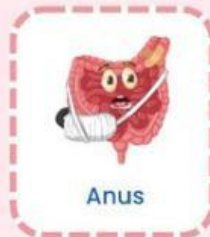
Nama :

Kelas :

Sistem Pencernaan Manusia

Manakah organ-organ dalam sistem pencernaan?

Sistem Pencernaan Manusia



Sistem Pencernaan Manusia

Tuliskan organ-organ penyusun sistem pencernaan manusia di bawah ini.

A. _____

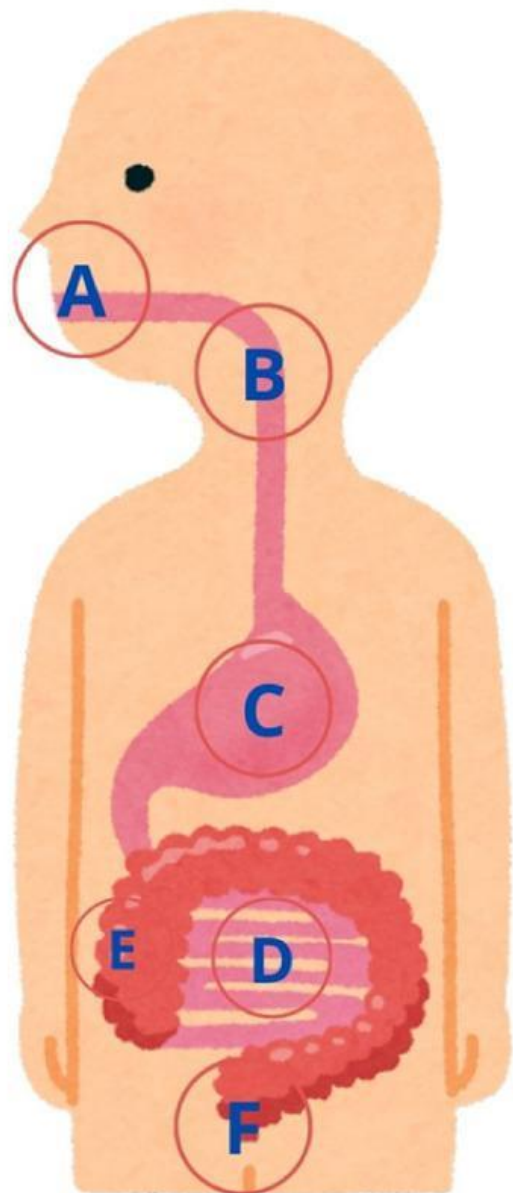
B. _____

C. _____

D. _____

E. _____

F. _____



Sistem Pencernaan Manusia

Tuliskan nama serta fungsi setiap organ berdasarkan gambar yang ditunjukkan.



Fungsi:



Fungsi:



Fungsi:



Fungsi:



Fungsi:



Fungsi: