

BILANGAN RASIONAL

A. Perhatikan video dibawah ini



B. Kerjakan soal dibawah ini

1

Bilangan yang dapat ditulis dalam bentuk pecahan, yaitu a/b dengan syarat a dan b adalah bilangan bulat dan b bukan nol. disebut...

2

Ali memiliki $5/6$ liter jus. Ia meminum $2/6$ liter jus. Berapa liter jus yang tersisa?

A

$1/4$ liter jus

B

$1/2$ liter jus

C

$3/3$ liter jus

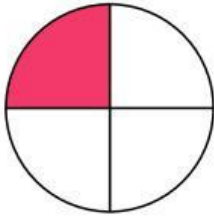
D

$2/4$ liter jus

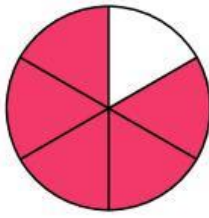
3

Pecahan $\frac{3}{5}$ ditunjukkan oleh gambar?

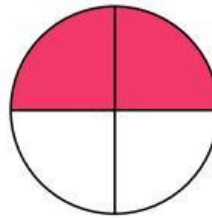
A



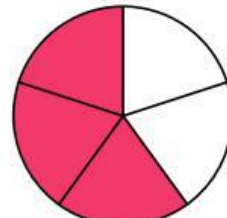
B



C



D



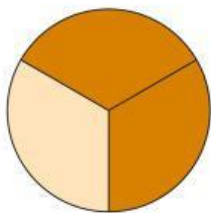
4

Buatlah garis ke jawaban yang benar?

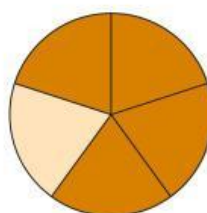
 $\frac{7}{10}$  $\frac{3}{10}$  $\frac{5}{10}$

5

Nilai



x



adalah...

A

 $\frac{8}{15}$

B

 $\frac{4}{15}$

C

 $\frac{7}{12}$

D

 $\frac{8}{12}$