

Lembar Kerja Peserta Didik

LKPD

MATEMATIKA

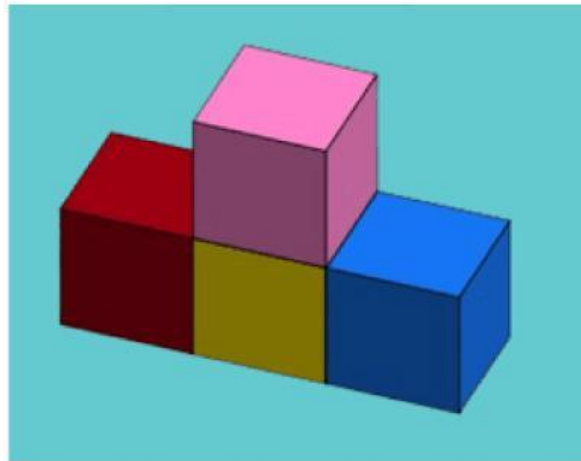
visualisasi spasial kelas 6 SD




Nama : _____

Kelas : _____


1. Bantu lah yuda menentukan warna gambarnya sesuai warna kubus yang terlihat dari atas dan kanan!




ATAS



KANAN



2.coba carilah gambar yang sesuai warna kubus yang terlihat dari sisi depan !



- ☐
- ☐
- ☐