

Lembar Kerja Peserta Didik



LKPD

MENULIS ANGKA



Nama : _____

Kelas : _____



Nama: _____

Kelas: _____

BELAJAR MENULIS ANGKA 1-10

Tebalkan angka dan tulisan di bawah ini dengan benar!

1 Satu

6 Enam

2 Dua

7 Tujuh

3 Tiga

8 Delapan

4 Empat

9 Sembilan

5 Lima

10 Sepuluh

Nama: _____

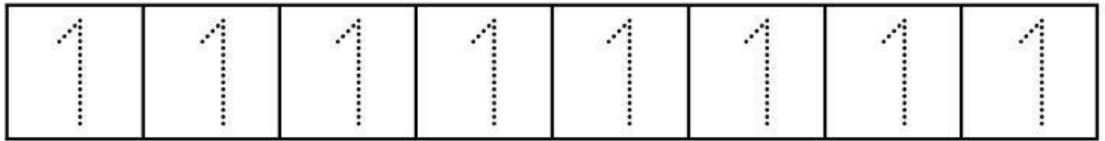
Kelas: _____



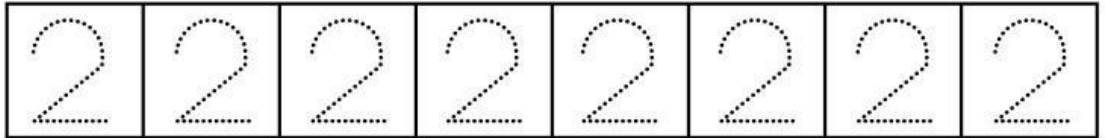
Belajar Menulis Angka

Sambungkan titik-titik di bawah ini untuk membentuk angka!


1



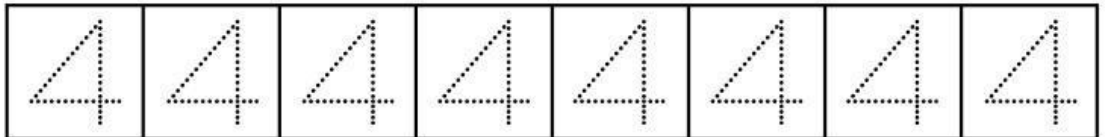
2



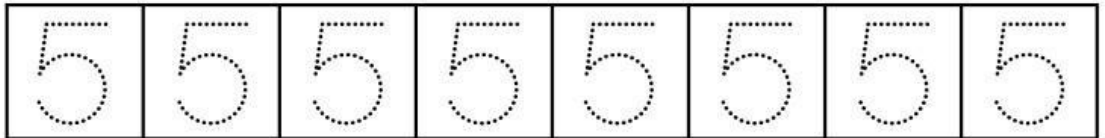
3



4



5



Potong dan tempelkan angka di bawah ini sesuai gambar diatas!

1

2

3

4

5

Nama: _____

Kelas: _____

Menulis Angka 1-10

Tuliskan urutan angka yang hilang pada tiap kereta!

