

Lembar Kerja Peserta Didik

# LKPD

## CIRI DAN SIFAT BANGUN DATAR

KELAS 1 SEKOLAH DASAR

Nama : \_\_\_\_\_

Kelas : \_\_\_\_\_




$$A = \pi r^2$$



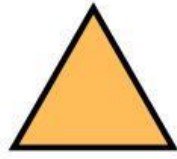
# Mencari Segitiga

Temukan dan tulis jumlah seluruh segitiga yang ada pada gambar berikut!





Jumlah segitiga adalah \_\_\_\_\_ buah.

# MENGENAL BANGUN DATAR



segitiga

yuk lingkari gambar yang berbentuk segitiga:



Nama :

Kelas :

# MENGELOMPOKKAN BANGUN DATAR

Hubungkan benda-benda yang sama bentuknya!

1



2



3



4



5

