



LKPD

Lembar Kerja Peserta Didik

TEMA 4 : HIDUP BERSIH DAN SEHAT

SUB TEMA 1: HIDUP BERSIH DAN SEHAT DIRUMAH

PEMBELAJARAN I

Kelas II



Disusun Oleh : Yulianti Karim
NIM: 151422047

LEMBAR KERJA PESERTA DIDIK (LKPD)

TUJUAN PEMBELAJARAN

1. Setelah mengamati video siswa dapat menganalisis nada panjang dan pendek bunyi pada lagu anak “Membuang Sampah” dengan benar. (C4)
2. Melalui penugasan siswa dapat mempraktekkan kegiatan bernyanyi lagu anak dengan nada panjang dan pendek secara benar. (P3)
3. Melalui power point dan video pembelajaran siswa dapat menganalisis kosakata yang terdapat pada teks yang berkaitan dengan lingkungan sehat menggunakan bahasa lisan dengan benar. (C4)
4. Siswa dapat menyimpulkan makna kosakata yang terdapat pada teks yang berkaitan dengan lingkungan sehat menggunakan bahasa lisan (dapat dibantu dengan kosakata bahasa daerah untuk membantu pemahaman) dengan benar. (C5)
5. Dengan mengamati video dan lingkungan sekitar, siswa dapat membuat hasil pengamatan sederhana tentang lingkungan sehat menggunakan ejaan yang tepat. (P5)


Hari/Tanggal:

Nama:

LEMBAR KERJA PESERTA DIDIK (LKPD)

Tugas ini dikerjakan sendiri ya dan di isi dengan baik dengan benar:)

A. Perhatikan video berikut ini!



B. Kerjakan tugas dibawah ini!

1. Nada ada yang panjang dan juga ada nada yang....

- A. Kecil
- B. Besar

- C. Pendek
- D. Bulat

2. Setiap pagi Gian menyapu rumahnya. setiap sampah yang ada selalu dibuang ditempat sampah. Tidak ada sampah berserakan didepan rumah gian. Rumah Gian termasuk rumah....

- A. Bersih
- B. Sehat

- C. Rapi
- D. Kotor

3. Hitunglah jumlah benda kebersihan sapu 3 buah, kain pel 2 buah berapa jumlah semuanya....

A. 6

C. 5

B. 8

D. 1

4. Alat berikut ini digunakan untuk menyapu lantai adalah

A. Kain Pel

C. Ember


B. Sapu Lidi

D. Lap Piring

5. Buatlah garis ke jawaban yang benar!



Jam



Gantungan Baju



Televisi

6. Buatlah pernyataan terkait gambar berikut ini



Empty rounded rectangular box for a statement.

Empty rounded rectangular box for a statement.

7. Tariklah nama arah yang sesuai dengan ciri-ciri dari bangun datar

Bangun Datar



Ciri-Ciri




aku
mempunyai
tiga sisi

aku tidak
mempunyai
sisi

aku
mempunyai
empat sisi

8. Tebaklah lagu ini beserta penciptanya



9. Ayah menyimpan 5 kain lap di dapur. Ibu menambahkan 4 kain lap lagi. Jumlah kain lap sekarang adalah

A. 8

C. 10

B. 9

D. 11

10. Bacalah teks berikut!

Setiap pagi, Ayah menyapu halaman. Ibu mencuci piring di dapur. Kakak menyiram tanaman di taman. Adik membantu merapikan mainan.

Siapa yang menyapu halaman....

A. Ayah

C. Kakak

B. Ibu

D. Adik