

LEMBAR KERJA PESERTA DIDIK

# LKPD

MATEMATIKA DASAR

Mengenal Lambang dan Nama Bilangan



**NAMA:**

\_\_\_\_\_

**KELAS:**

\_\_\_\_\_

Disusun Oleh:  
**Andini Safitri**

## TUJUAN PEMBELAJARAN

1. Peserta didik dapat mengenal lambang bilangan dan nama bilangan
2. Peserta didik dapat menuliskan lambang bilangan pada kotak jawaban yang sesuai
3. Peserta didik dapat memasang lambang bilangan pada kotak jawaban yang sesuai

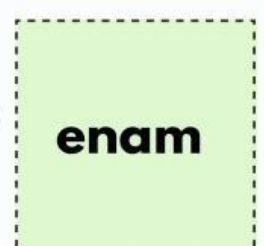








## INFORMASI PENDUKUNG

LKPD ini berisi tentang lembar kerja yang harus dikerjakan oleh peserta didik dengan menuliskan lambang bilangan dan menemukan jawaban lalu menarik memasang jawaban tersebut pada kotak jawaban yang sesuai dengan lambang bilangannya.



# MENGENAL LAMBANG BILANGAN DAN NAMA BILANGAN

Ayo tulis lambang bilangan dari gambar berikut dan pasangkan dengan nama bilangan!



# NAMA BILANGAN DAN LAMBANG BILANGAN

Hubungan nama bilangan pada lambang bilangan yang sesuai dengan sebuah garis!

enam puluh enam

27

delapan puluh empat

92

dua puluh tujuh

66

sembilan puluh dua

84

lima puluh satu

79

tujuh puluh sembilan

45

empat puluh lima

51

tiga puluh tiga

55

tujuh puluh delapan

33

dua puluh empat

24

lima puluh lima

86

delapan puluh enam

78

# MENULIS LAMBANG BILANGAN

Tulis lambang bilangannya!

dua puluh empat

**24**

tiga puluh satu



empat puluh enam



lima puluh tujuh



enam puluh dua



tujuh puluh sembilan



delapan puluh tiga



sembilan puluh lima



**31**

**46**

**57**

**62**

**79**

**83**

**95**