

LEMBAR KERJA PESERTA DIDIK

BENTUK BANGUN DATAR MATEMATIKA SD 1



Nama : _____
Kelas : _____

APA KEGIATAN KITA HARI INI?

Haloo anak-anak! Kegiatan kita hari ini adalah menyelesaikan beberapa misi yang berhubungan dengan bentuk bangun datar. Terdapat 4 misi dengan tugas yang berbeda-beda. Selesaikan setiap misi dengan cermat dan tepat agar kalian memperoleh nilai yang bagus! Semangat!



START

...

Apakah kamu sudah siap
menyelesaikan misi?

YA

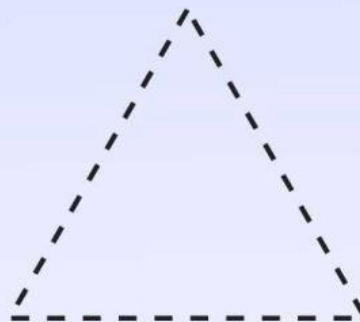

☐

TIDAK

☐

AYO SELESAIKAN MISI PERTAMA!

Selesaikan misi dengan memasang jawaban yang benar!



Persegi

Lingkaran

Segitiga

AYO SELESAIKAN MISI PERTAMA!

Selesaikan misi dengan memasang jawaban yang benar!



Segilima

**Persegi
panjang**

Oval

WAH LUAR BIASA! SELANJUTNYA SELESAIKAN MISI KEDUA YA!



Selesaikan misi dengan mencocokkan benda sesuai bentuk!



•

•



•

•



•

•



•

•




•

•



SUDAH HAMPIR SELESAI MARI KITA KERJAKAN MISI KETIGA!

Ayo temukan bentuk pada gambar ini dan hitunglah berapa jumlahnya!







PERSEGI	LINGKARAN	SEGITIGA
.....	2



SIAPKAN UNTUK MENYELESAIKAN MISI TERAKHIR?



yo berikan centang pada bentuk yang sesuai dengan di kolom!

LINGKARAN	OVAL
 <input data-bbox="734 694 805 772" type="checkbox"/>	 <input data-bbox="1236 694 1308 772" type="checkbox"/>

PERSEGI	PERSEGI PANJANG
 <input data-bbox="734 1131 805 1209" type="checkbox"/>	 <input data-bbox="1236 1131 1308 1209" type="checkbox"/>

SEGITIGA	SEGILIMA
 <input data-bbox="734 1568 805 1646" type="checkbox"/>	 <input data-bbox="1236 1568 1308 1646" type="checkbox"/>




**HOREE! KAMU TELAH
MENYELESAIKAN SEMUA MISI!**

Bagaimana perasaanmu setelah menyelesaikan misi?



NILAI YANG KAMU PEROLEH



Ayo kumpulkan lembar kerjamu untuk memperoleh nilai!