



LKPD

Lembar Kerja Peserta Didik

MATEMATIKA

MENGENAL BENTUK

Nama : _____


Kelas : _____

Tujuan Pembelajaran

"Mari Kita Mengenal
Berbagai Macam
Bentuk Benda"




Sebelumnya apakah kalian
pernah melihat ini?



Nah jadi di halaman sebelumnya adalah contoh bentuk dari segi makanan.




SEGITIGA



LINGKARAN



PERSEGI





AYO KITA BERLATIH!



hubungkan gambar dengan bentuk geometri yang sama






Made by Ms.Putri 

Berikan Centang Pada Gambar!
Yang manakah bentuk bangun
Segitiga, Lingkaran, dan Persegi?



**Cocokkan lah bentuk
bangun di bawah dengan
namanya masing-masing!**



LINGKARAN

PERSEGI

SEGITIGA

