



Sekolah Dasar
Kelas 6

LEMBAR KERJA PESERTA DIDIK



Perkembangbiakan
Makhluk Hidup

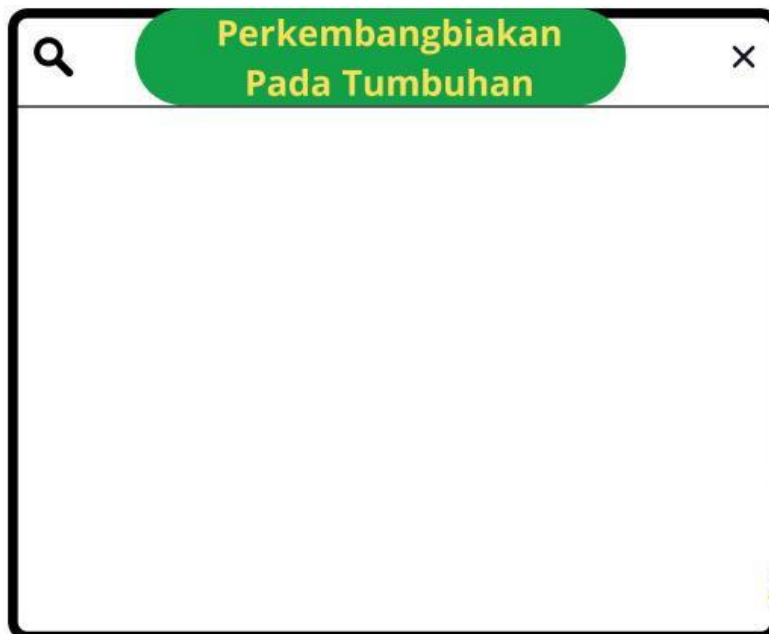
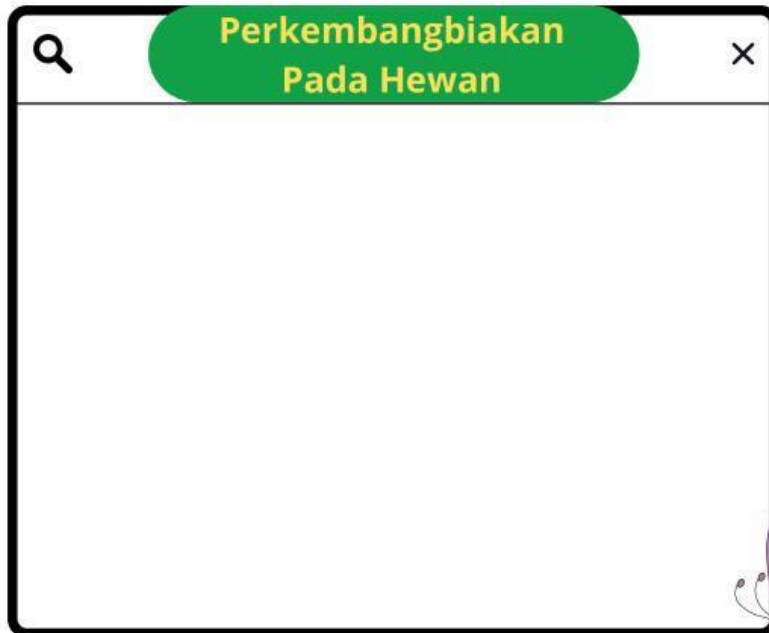


Nama :

Absen :

PERKEMBANGBIAKAN MAKHLUK HIDUP

Ayo simak video dibawah ini dengan baik yaa





Latihan Soal

1. Perkembangbiakan pada hewan dan tumbuhan memiliki 2 macam yaitu secara... dan ...

Generatif dan Ovipar

Vegetatif dan Bertelur

Generatif dan Vegetatif

Tunas dan Membelah diri

centang jawaban yang benar!

2. Perkembangbiakan hewan secara generatif ada 3 yaitu

Ovipar

Ovovivipar

Vivipar

Membelah Diri

3. Tumbuhan yang berkembang biak dengan cara menyetek batang, seperti pada tanaman mawar, adalah contoh perkembangbiakan secara?

Vegetatif alami

Generatif

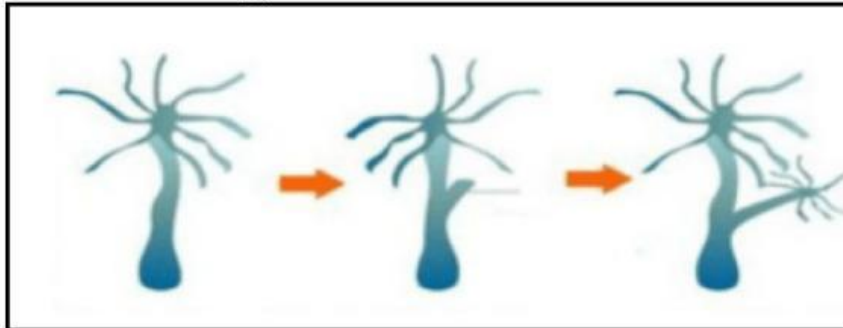
Vegetatif buatan

Generatif buatan



Latihan Soal

Perhatikan gambar ini!



4.gambar diatas merupakan hewan hydra yang berkembangbiakan dengan cara?

5.Perkembangbiakan tumbuhan secara vegetatif buatan biasanya dilakukan dengan cara

- | | |
|-----------------------------------------|--------------------------------------------------|
| <input type="checkbox"/> Menyemai biji | <input type="checkbox"/> Menyetek batang tanaman |
| <input type="checkbox"/> Menyusun spora | <input type="checkbox"/> Menanam akar |

~Selesai~

Good Job!!! Terimakasih Telah mengerjakan latihan soal ini dengan sungguh-sungguh.

Penulis: Kadek Tristina Widyanti (2411021014)