

LEMBAR KERJA PESERTA DIDIK

MATEMATIKA

FASE C KELAS 6

MENGHITUNG BILANGAN 1-10



NAMA :
KELAS :
HARI :
TANGGAL :

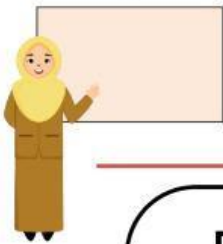
PETUNJUK PENGGUNAAN LKPD



Sebelum Ananda menggunakan LKPD ini, ada beberapa hal yang harus di perhatikan diantaranya:

Bacalah petunjuk dan Langkah kegiatan secara cermat dan teliti

1. Lakukan kegiatan secara runtut dan tanyakan kepada gurumu jika ada yang belum kamu pahami
2. Tulislah identitas diri dengan benar!
3. Bacalah soal berikut ini dengan cermat!
4. Kerjakan soal berikut ini dengan jujur dan tepat!



CAPAIAN PEMBELAJARAN

Peserta didik menunjukkan pemahaman dan memiliki institusi bilangan (number sense) pada bilangan cacah sampai 10






TUJUAN PEMBELAJARAN

1. Mengenali angka sampai dengan 10
2. Menghirung banyak benda sampai dengan 10




Menghitung dari 1 sampai 10

Hitunglah ada berapa banyak buah-buahan dan tuliskan pada lingkaran yang tersedia!



Menghitung dari 1 sampai 10

Hitunglah jumlah makanan di bawah ini dan pasangkan dengan bilangan yang tepat!



10



5



6



4

Mari Berhitung!

Hitunglah jumlah
masing-masing buah
tiap baris!



2

2

2

