


Lembar Kerja Peserta Didik

(Bilangan Sampai Dengan 10)

MATEMATIKA
SD 1

Abc

$$1+3$$



A

B

NAMA :
KELAS :



MARI MENGENAL BILANGAN 1-10



1

SATU

ONE

6

ENAM

SIX

2

DUA

TWO

7

TUJUH

SEVEN

3

TIGA

THREE

8

DELAPAN

EIGHT

4

EMPAT

FOUR

9

SEMBILAN

NINE

5

LIMA

FIVE

10

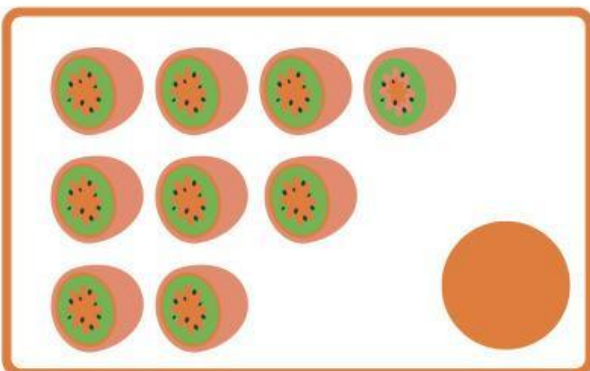
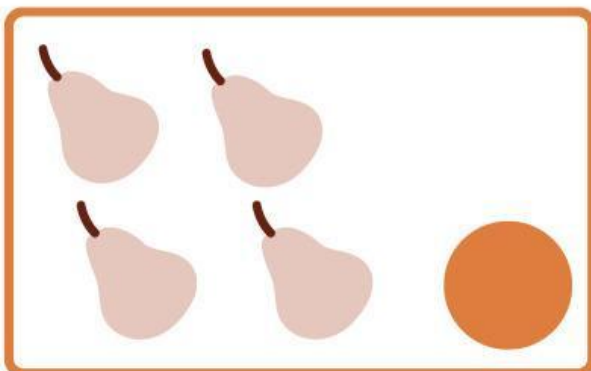



SEPULUH

TEN



Menghitung dari 1 sampai 10

Hitunglah ada berapa banyak buah-buahan dan tuliskan pada lingkaran yang tersedia!

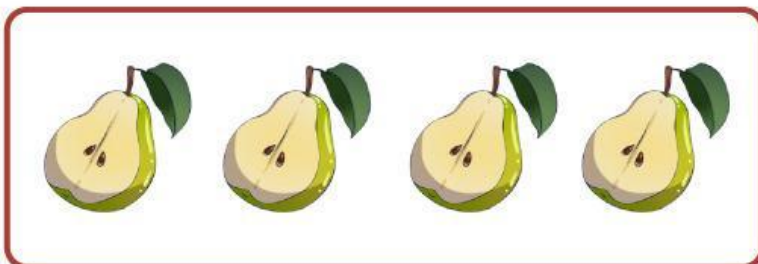






MARI MENGHUBUGKAN



Tariklah Garis Untuk Menghubungkan Antara Buah-Buahan Dengan Angka Yang Benar!



5

3

9

10

4

Ayo Berlatih!

Isilah Kotak Yang Kosong Dengan Angka Yang Benar Untuk Menghasilkan Angka Yang Sesuai Dengan Kotak Diatas Nya!

