


Lembar Kerja Peserta Didik

LKPD

Penyajian Data dalam Bentuk Tabel

KELAS IV FASE B



Nama Kelompok :

Dosen Pengampu :

Rusnilawati, S.Pd., M.Pd

kelompok 4b:

Uicka Ria Fauziyah (A510220058)

Intan Rahma Alliane (A510220080)

Power Point

Kegiatan 1 : Orientasi siswa pada masalah

Materi



link Barcode



<https://youtu.be/yhMDWt3HmDo>

Power Point

Kegiatan 1 : Orientasi siswa pada masalah

Permasalahan



Link Barcode



<https://youtu.be/pa1e8z5iBdA?feature=shared>

LKPD 1

**AYO, MENCoba !
PERHATIKAN TABEL DI BAWAH INI !**

Tabel hobi teman sekelas Melly

JENIS HOBBY	BANYAK SISWA
MEMBACA	8
MENYANYI	6
OLAH RAGA	11
MENGGAMBAR	4

Lengkapi pernyataan di bawah ini, sesuai dari data tabel di atas !
seret dan lepaskan angka yang sesuai pada kotak yang telah disediakan !

- Siswa yang hobby membaca ada
- Siswa yang hobby olah raga ada
- Siswa yang hobby menggambar ada
- Siswa yang hobby menyanyi ada
- JUMLAH teman sekelas Melly ada
- Hobby yang paling banyak adalah
- Hobby yang paling sedikit adalah

LKPD 2

Soal Cerita

1. Di kelas 4, ada 5 siswa yang mengikuti berbagai jenis kegiatan ekstrakurikuler. Setiap siswa memiliki kegiatan ekstrakurikuler yang berbeda, dan berikut adalah jumlah waktu yang mereka habiskan untuk mengikuti kegiatan tersebut dalam seminggu:

Dinda menghabiskan 3 jam untuk mengikuti kegiatan Pramuka.

Budi menghabiskan 5 jam untuk mengikuti kegiatan Sepak Bola.

Siti menghabiskan 2 jam untuk mengikuti kegiatan Paduan Suara.

Anton menghabiskan 4 jam untuk mengikuti kegiatan Bola Basket.


Rina menghabiskan 6 jam untuk mengikuti kegiatan Voli.



LKPD 2

Tugas:

Buatlah tabel yang menunjukkan nama siswa dan jumlah jam yang mereka habiskan untuk kegiatan ekstrakurikuler. Setelah itu, urutkan tabel berdasarkan jumlah jam yang mereka habiskan, dari yang paling sedikit hingga yang paling banyak.



LKPD 2

Soal Cerita:

2. Di sekolah, ada 4 siswa yang mengikuti berbagai kegiatan ekstrakurikuler. Masing-masing siswa menghabiskan waktu yang berbeda untuk mengikuti kegiatan tersebut. Berikut adalah jumlah waktu yang mereka habiskan untuk kegiatan ekstrakurikuler mereka dalam seminggu:

Adit mengikuti kegiatan Pramuka selama 4 jam.

Maya mengikuti kegiatan Seni Musik selama 3 jam.

Rizki mengikuti kegiatan Sepak Bola selama 6 jam.


Nadia mengikuti kegiatan Bola Voli selama 5 jam.

Tugas:

Buatlah tabel yang menunjukkan nama siswa dan jumlah jam yang mereka habiskan untuk mengikuti kegiatan ekstrakurikuler.

Setelah itu, urutkan tabel berdasarkan jumlah jam yang mereka habiskan, dari yang paling sedikit hingga yang paling banyak.

LKPD 2



LATIHAN SOAL

Berikut adalah data berat badan (dalam kg) peserta didik kelas IV SD Sukamaju:

32 43 34 33 34 33 32 35 34 32

33 34 34 32 33 34 32 33 33 34

JAWABAN SINGKAT

1. Urutkan berat badan dari yang paling ringan!

2. Berat badan yang paling besar adalah....

CHECKS BOX

3. Berat badan yang paling kecil adalah....

A.34

C.33

B.43

D.32

4. Selisih berat badan yang paling besar dan kecil adalah....

A.9

C.11

B.10

D.12

LATIHAN SOAL

Soal nomor 5-7 berhubungan dengan data berikut
18,9,10,21,11,16,15,20,17,14,13,19,12,16,15

5. Nilai terbesar dari data diatas adalah....

A.20

C.21

B.19

D.18

SELECT

6. Nilai terkecil dari data diatas adalah....

A.9

C.10

B.19

D.18

7. selisih data terbesar dan data terkecil adalah....

A.9

C.11

B.10

D.12

8. Data hasil pengukuran berat badan kelas IV SDN
Pelita adalah sebagai berikut(dalam kg):

24,25,26,28,24,27,25,28,28,24,24,27,28,24,26,26,
26,28,25,25,25,28,27

LATIHAN SOAL

Berat Badan	Jumlah Siswa
24 Kg	5
25 kg	6
26 Kg	4
27 Kg	4
28 Kg	6

Berat Badan	Jumlah Siswa
24 Kg	5
25 kg	6
26 Kg	4
27 Kg	3
28 Kg	7

Berat Badan	Jumlah Siswa
24 Kg	5
25 kg	6
26 Kg	4
27 Kg	4
28 Kg	6

Berat Badan	Jumlah Siswa
24 Kg	5
25 kg	5
26 Kg	4
27 Kg	3
28 Kg	6



PILIHAN GANDA

9. Urutkan kue yang jumlahnya dari yang paling kecil ke jumlah yang paling besar!

10. urutkan kue yang jumlahnya dari yang paling banyak ke jumlah yang paling kecil!