



Ficha kilo, medio kilo y cuarto de kilo

1 ¿Cuánto pesan estas frutas? Completa con *más* o *menos*.



Pesa de un kilo.



Pesa de un kilo.

2 ¿Cuántos cuartos de kilo hay en medio kilo? Señala.

☐

1 cuarto de kilo

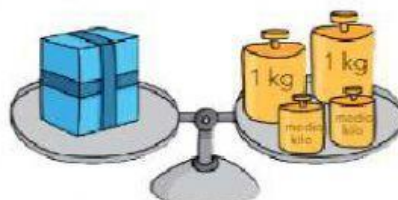
☐

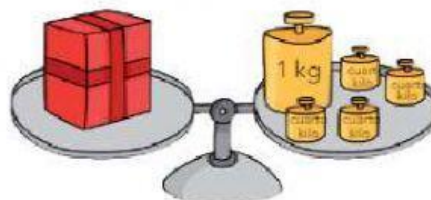
2 cuartos de kilo

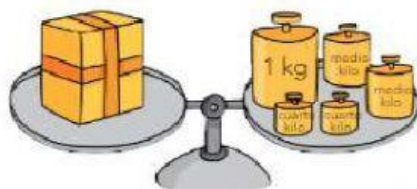
☐

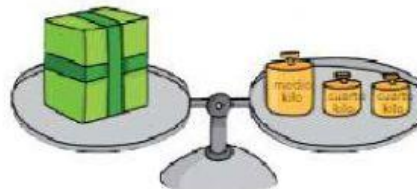
4 cuartos de kilo

3 ¿Cuánto pesan estas cajas? Observa y escribe.

☐

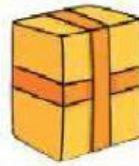

☐

☐

☐

- 4 Escribe los números del 1 al 4 para ordenar las cajas de la actividad anterior. Pon el 1 en la que pesa menos.

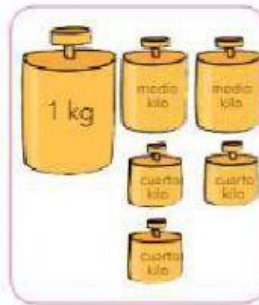
Recorta rectángulo



- 5 ¿Cuánto falta para que haya 3 kg? Señala.



- ☐ un kilo
☐ medio kilo
☐ un cuarto de kilo



- ☐ un kilo
☐ medio kilo
☐ un cuarto de kilo