


Nama :

Tanggal :

AYO BERHITUNG



Hitunglah hasil dari operasi penjumlahan dan isikan di kotak yang disediakan!



+10



Silanglah hasil dari hasil pengurangan di bawah ini

$$20 - 11$$

- A SEMBILAN C TIGA
B SEPULUH d TUJUH




pindahtan gambar sesuai dengan jumlah buah

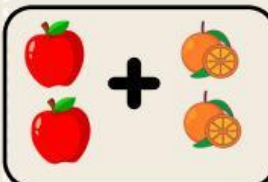
tiga

empat

lima



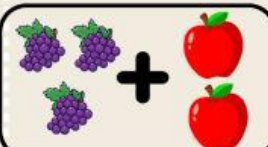
hitunglah jumlah buah di bawah ini lalu hubungkan dengan jawaban yang benar



•

•


6



•

•

5



•

•

4