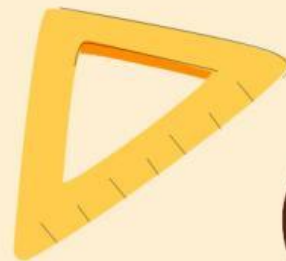


Lembar Kerja Peserta Didik

# LKPD

PENGUKURAN PANJANG DAN BERAT



DISUSUN OLEH : EFRILIA NADIFA

 **LIVEWORKSHEETS**



# IDENTITAS

**Mata pelajaran : Matematika**

**Fase / Kelas : B / 3**

**Alokasi Waktu : 15 menit**

**Hari / Tanggal :**

**Tujuan LKPD**

- Setelah menyelesaikan LKPD
- peserta didik dapat menentukan
  - Pengukuran Panjang dan Berat dalam kehidupan sehari-hari

**Kelompok :**

- 1.
- 2.
- 3.
- 4.



## **Orientasi peserta didik pada masalah**

**Bacalah pemasalahan berikut:**

**" Ani memiliki sebuah pensil dan sebuah pena, bantulah Ani untuk mengetahui panjang dari masing-masing pena dan pensil tersebut "**




## **Mengorganisasikan peserta didik agar belajar**

- 1. Guru membagi kelompok peserta didik**
- 2. Duduklah dikelompok yang sudah ditentukan**
- 3. Setiap kelompok menerima LKPD yang sudah disiapkan guru**
- 4. Diskusikan dengan temanmu bagaimana cara menentukan Pengukuran panjang dan berat**



## Pelaksanaan investigasi

Selidiki bersama anggota kelompokmu untuk menentukan panjang dari benda dibawah ini!





Berdasarkan hitungan yang telah dilihat ,  
jawablah pertanyaan dibawah ini dengan  
data dan informasi yang telah diperoleh  
dari gambar diatas !

**1. Benda apa yang paling pendek?**

Jawab :

**2. Benda apa yang paling panjang?**

Jawab :

**3. Berapa cm selisih panjang antara benda terpanjang dan terpendek?**

Jawab :

**4. Berapa cm selisih panjang antara benda terpanjang dan terpendek?**


Jawab :

**5. Berapa cm total panjang semua alat tulis jika kita gabungkan semuanya?**

Jawab :



**Pasangkan gambar pengukuran berat benda dengan alat ukur yang tepat.**





Bacalah soal dibawah ini, kemudian jawablah dengan benar !



Ayah membeli satu karung kentang. Beratnya 8.000 gram. Berapa kilogram berat kentang itu?

Jawab :

---



Pak Rudi baru memanen jagung. Jagung itu beratnya 6.500 gram. Berapa kilogram berat jagung itu?

Jawab :

---



Ibu meminta Dika membeli beras. Dika membeli 3 kilogram beras. Berapa gram berat beras itu?

Jawab :

---



Bacalah soal dibawah ini, kemudian jawablah dengan benar !



Berat satu karung tomat itu 5 kilogram. Berapa berat 3 karung tomat?

Jawab :

---



Ibu memiliki sekarung wortel yang beratnya 3 kilogram, lalu ayah mengambilnya 2 kilogram.

Jawab : Berapa gram sisa wortel Ibu?

---



**Mengembangkan dan  
menyajikan hasil kerja**

**Masing-masing perwakilan  
kelompok mempresentasikan  
hasil kerja kelompok di depan  
kelas.**



## Menganalisis dan evaluasi masalah

Perwakilan kelompok mempresentasikan hasil kerja kelompok bagaimana cara secara klasikal membandingkan antar pecahan dengan penyebut sama yang dimiliki kakak. Kemudian kelompok lain memberikan tanggapan





## KESIMPULAN