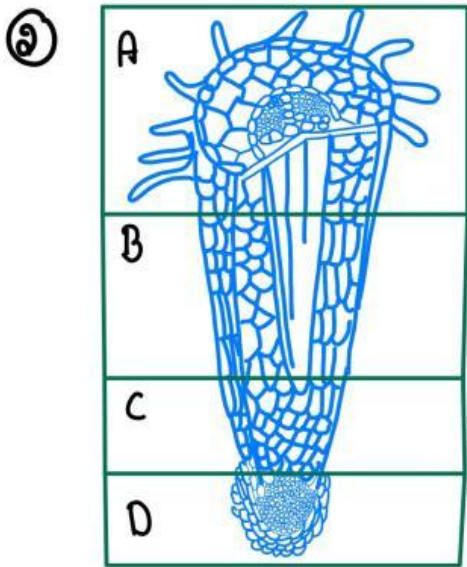


# แบบทดสอบเกี่ยวกับขน

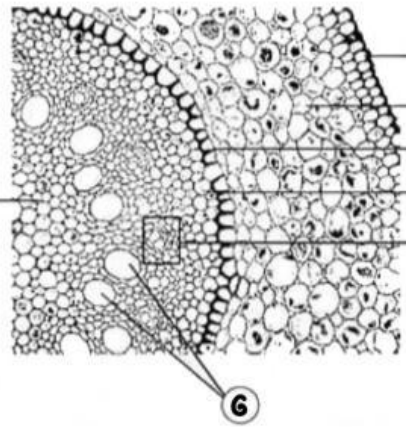
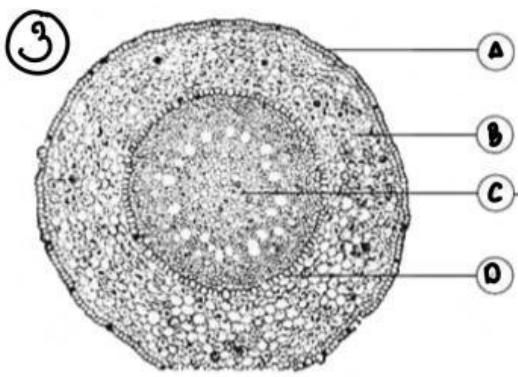
ชื่อ \_\_\_\_\_ ชั้น \_\_\_\_\_ เลขที่ \_\_\_\_\_

① เนื้อเยื่อแบ่งออกเป็น \_\_\_\_\_ ประเภทได้แก่ \_\_\_\_\_

---



- A คือ \_\_\_\_\_
- B คือ \_\_\_\_\_
- C คือ \_\_\_\_\_
- D คือ \_\_\_\_\_




- A = \_\_\_\_\_
- B = \_\_\_\_\_
- C = \_\_\_\_\_
- D = \_\_\_\_\_
- E = \_\_\_\_\_
- F = \_\_\_\_\_

ฉากรูป เซลล์ รากยาว \_\_\_\_\_


# 4. รากต้นไม้และรากชนิดอื่น (3 ค: 6 ข)



1. \_\_\_\_\_




2. \_\_\_\_\_



3. \_\_\_\_\_



4. \_\_\_\_\_



5. \_\_\_\_\_



6. \_\_\_\_\_