

Matapelajaran: Matematik

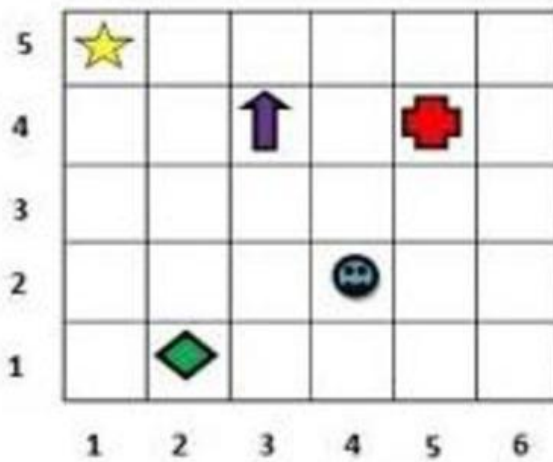
Tajuk: Koordinat






Aktiviti: Mencari koordinat sesuatu objek.

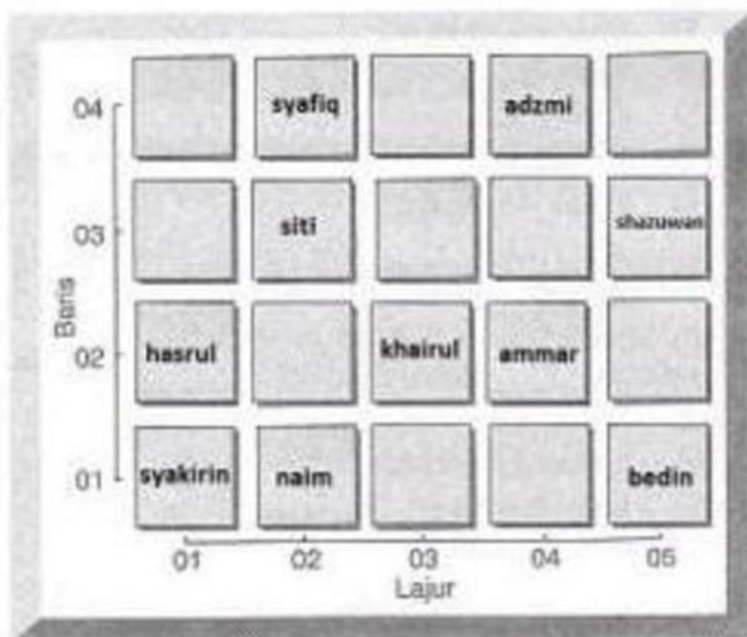
Nota: Untuk menulis koordinat. Lihat baris melintang di bawah terlebih dahulu dan diikuti dengan baris menegak : contohnya kordinat bintang 1 baris melintang dan 5 baris menegak (1,5)

LATIHAN B: Nyatakan koordinat berikut

1.



- a)  = 1.5
- b)  = _____
- c)  = _____
- d)  = _____
- e)  = _____



- a) Syakirin = _____
- b) Ammar = _____
- c) Adzmi = _____
- d) Siti = _____
- e) Hasrul = _____
- f) Khairul = _____
- g) Naim = _____
- h) Bedin = _____
- i) Shazuwan = _____
- j) Syafiq = _____