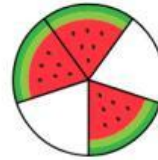
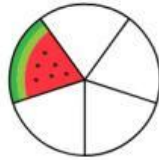
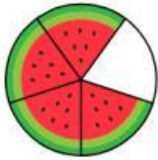
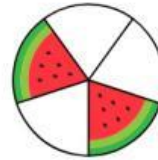
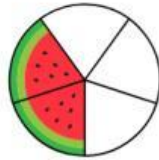
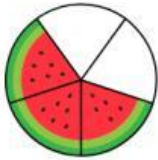


Nama : .....

## PECAHAN

Tuliskan lambang pecahan yang sesuai dengan gambar yang ada di bawah ini!



Jawablah pertanyaan di bawah ini dengan tepat dan benar!

Pertanyaan :

1. Sebuah kue dipotong menjadi 8 bagian. Jika Andi memakan 3 bagian, berapa sisa kue dalam bentuk pecahan?
2. Ibu membeli 1 liter susu. Setengahnya dipakai ibu, berapa sisa susu yang tersisa?
3. Ember berisi  $\frac{2}{3}$  dari kapasitas 5 liter. Berapa liter air yang ada di dalam ember tersebut?

Jawaban :

---

---

---

---

---