


Lembar Kerja Peserta Didik

# LKPD

## MENGENAL BANGUN DATAR

Nama : \_\_\_\_\_

Kelas : \_\_\_\_\_



Halya Wirdah Assidikia



# Tujuan Pembelajaran

- melalui pengamatan pada gambar, peserta didik dapat mengenal berbagai bangun datar (persegi,lingkaran,persegi panjang,segitiga dengan benar dan teliti.
- setelah menganalisis bangun datar (persegi, persegi panjang, lingkaran, segitiga ) yang di tanyakan guru. Peserta didik dapat menganalisi dan menyusun bagai bangun datar bentuk yang baru dan benar
- melalui tugas kelompok tentang berbagi bentuk bangun datar, perserta didik dapat menyimpulkan berbagai bangun datar dengan benar dan teliti





## **langkah-langkah pembelajaran**

- bacalah dan pahami petunjuk soal
- kerjakan soal yang kamu anggap mudah
- berdiskusi kepada teman kelompok mu



Nama:

Kelas:

# BANGUN DATAR

Isilah nama bangun datar di bawah ini dengan benar!





Nama :

Kelas :


# BANGUN DATAR

Hubungkan bentuk bangun datar dengan namanya yang benar!



•

• Lingkaran



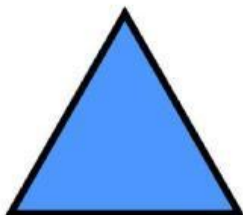
•

• Persegi Panjang



•

• Segitiga



•

• Persegi



## **Refleksi**

- apakah peserta didik dapat mengenal bentuk bangun datar

## **Penutup**

- mintalah guru untuk memeriksa jawaban kamu





**BRAVO!**