

KISI - KISI ASESMEN SUMATIF SEMESTER I
MATA PELAJARAN MATEMATIKA
TAHUN AJARAN 2024 / 2025

1. Operasi hitung yang hasilnya benar adalah

a. $15 - 7 = 10$

b. $10 - 8 = 3$

c. $10 - 5 = 5$



Terdapat 9 mobil terparkir di tempat parkir.

Jika mobil yang bertanda silang merah meninggalkan tempat parkir, maka sisa mobil yang terparkir adalah


a. 5 mobil

b. 6 mobil

c. 7 mobil

3. Bentuk persegi empat ditunjukkan gambar



4.  Gambar disamping adalah gabungan dari bangun datar

a. lingkaran

b. segitiga

c. layang-layang

5. $7 + 3 = 10$, maka $10 - 5 =$

a. 5

b. 6

c. 7


6. Sebutkan tiga benda yang berbentuk lengkung !

.....

7. Aku berdiri di angka 9.

Aku melompat dua langkah ke belakang.

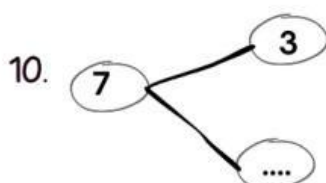
Sekarang aku ada di angka

8.  Hitunglah banyak bentuk lengkung, segitiga, dan segi empat pada gambar disamping !

.....

9. Hasil dari $8 - 3$ adalah

.....



Bilangan yang tepat untuk mengisi titik-titik adalah

.....