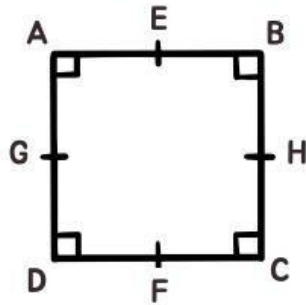


Petualangan 1

Di kegiatan I ini kalian akan belajar
tentang apa itu bangun datar
persegi dan persegi panjang.

Yuk persiapkan diri kalian sebelum
belajar

Benda pertama adalah jam dinding



Bintang menggambar bentuk jam dinding tersebut dan menghasilkan bentuk bangun datar persegi ABCD

Perhatikan keempat sisi Persegi ABCD

Sisi AB = Sisi __ Sisi AD = Sisi __

AB = __ = AD = __

Perhatikan keempat sudut Persegi ABCD

$\angle A = ______$ $\angle B = ______$

$\angle C = ______$ $\angle D = ______$

$\angle A = \angle ______ = \angle ______ = \angle D$

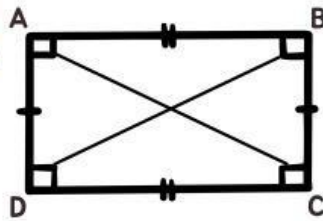
Perhatikan sumbu simetri Persegi ABCD

Garis AC = __ = EF = __

Cobalah putar persegi ABCD! Kemudian cari simetri putarnya!

Jika diputar, maka persegi dapat menempati bingkainya dengan tepat sekali.

Benda pertama adalah papan tulis



Bintang menggambar bentuk papan tulis tersebut dan menghasilkan bentuk bangun datar persegi panjang ABCD

Perhatikan keempat sisi Persegi Panjang ABCD

Sisi yang berhadapan sama panjang

$AB = ______$ $AD = ______$

Perhatikan keempat sudut Persegi Panjang ABCD

$\angle A = ______$ $\angle B = ______$

$\angle C = ______$ $\angle D = ______$

$\angle A = \angle ______ = \angle ______ = \angle D$

Perhatikan diagonal Persegi Panjang ABCD

Garis AC = Garis $______$

Cobalah putar Persegi Panjang ABCD!

Kemudian cari simetri putarnya!

Jika diputar, maka persegi dapat menempati bingkainya dengan tepat sebanyak $______$ kali.


Keliling dan luas persegi dan persegi panjang

KOY TUJUAN
MATERI
LOKUSI
LATIHAN
EVALUASI

KELILING PERSEGI

Perhatikan Gambar

1. Keliling sebuah bangun datar adalah *jumlah semua sisi bangun tersebut*.
2. Perhatikan lagi bangun persegi disamping
3. Maka kita dapat menentukan keliling persegi ini.



5 cm

Klik video disini

Yuk kita tonton video di atas, jangan lupa dicatat ya!

Kuis Keliling Petualangan 1



Tarik garis dari soal di atas ke jawaban yang menurutmu benar di bagian bawah !

Persegi dengan panjang sisinya 6 cm



5 cm

Persegi panjang dengan panjangnya 4 cm dan lebarnya 7 cm



24 cm

Persegi panjang dengan lebar 7 cm dan kelilingnya 24 cm. Hitung panjangnya!



22 cm

Kuis Luas Petualangan 1



Tarik garis dari soal di atas ke jawaban yang menurutmu benar di bagian bawah !

Persegi dengan panjang sisinya adalah 7 cm

Persegi panjang dengan panjangnya 6 cm dan lebarnya 8 cm

Persegi panjang dengan lebar 10 cm dan kelilingnya 5 cm. Hitung panjangnya!

50 cm

49 cm

48 cm