

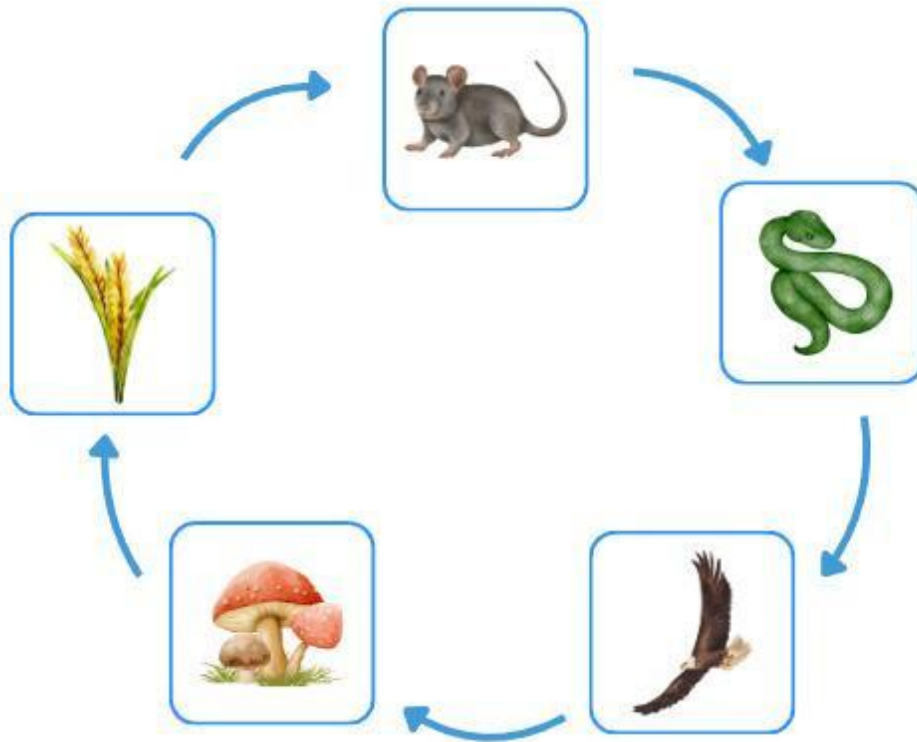
Nama :

Kelas :

Lembar Kerja IPA

Rantai Makanan


Perhatikan gambar! tuliskan nama makhluk hidup dan perannya dalam ekosistem pada tabel di bawah!



Ekosistem di Sawah

No.	Makhluk Hidup	Peran dalam Ekosistem

Hubungkan suara binatang yang tepat.



Amatilah gambar rantai makanan berikut dan letakkanlah kotak pada posisi yang tepat!

Produsen

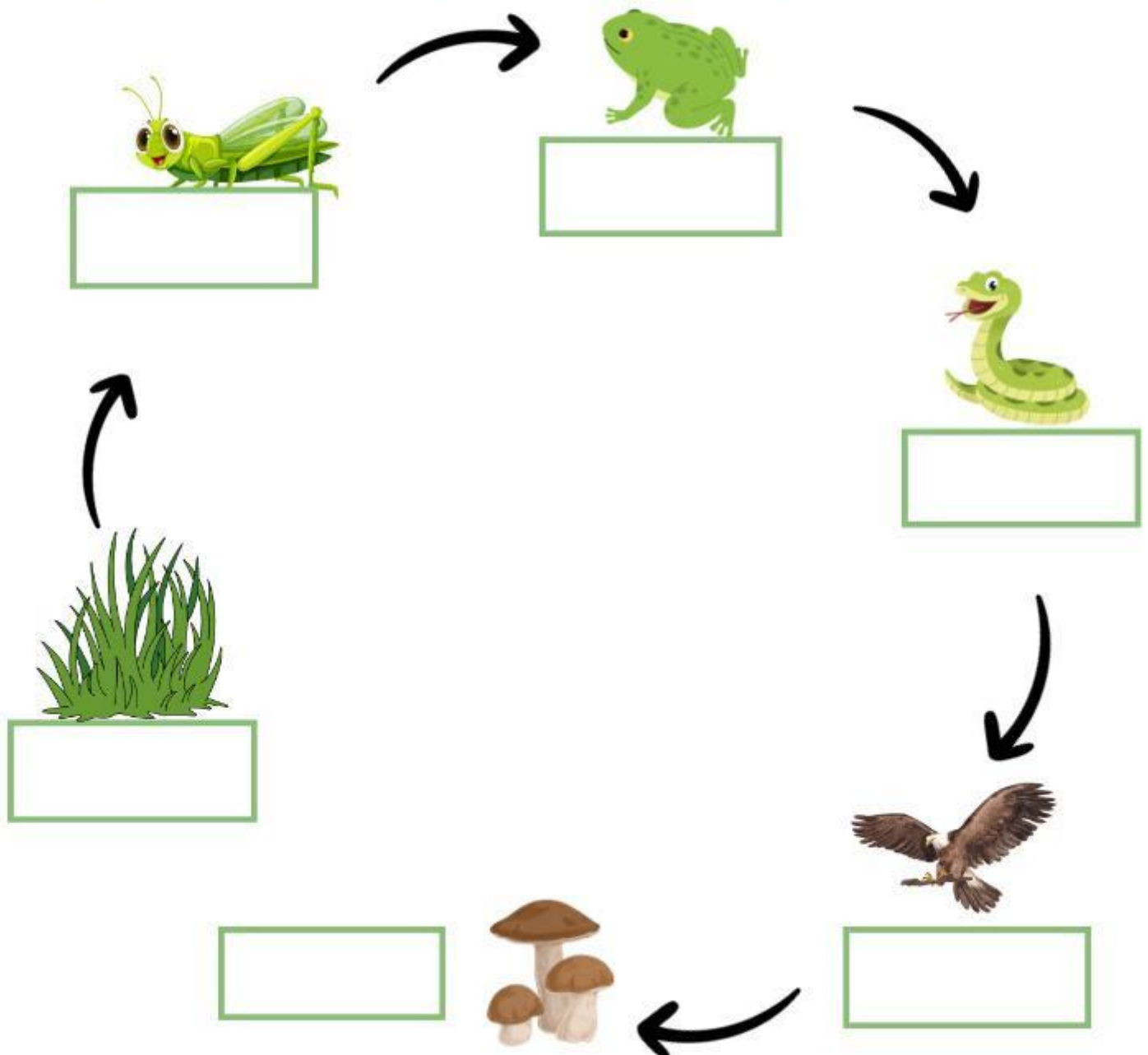
Konsumen Primer

Konsumen Sekunder

Konsumen Tersier

Konsumen Final

Dekomposer





1. Perhatikan gambar rantai makanan berikut ini!



Tuliskan peran dan hubungan antar makhluk hidup pada rantai makanan di atas!

a. Rumput:

b. Kelinci:

c. Ular:

d. Jamur:

2. Perhatikan gambar rantai makanan berikut ini!



Tulislah urutan rantai makanan dari gambar di atas ini!

a. → b. → c. → d. → e.

Hubungkan susunan rantai makanan,
dengan tingkatan trofik yang tepat.



Konsumen 1



Dekomposer



Produsen




Konsumen 2



Konsumen
Puncak

Selesaikanlah teka-teki silang dibawah ini!



Mendatar

- 1 Mengurai bangkai makhluk hidup.
- 6 Dibutuhkan tumbuhan untuk proses fotosintesis.
- 7 Makhluk hidup yang berperan sebagai produsen.
- 10 Makhluk hidup yang memakan daging dan tumbuhan.

Gunakan petunjuk di atas untuk menyelesaikan teka-teki silang

Menurun

- 2 Makhluk hidup pemakan daging.
- 3 Dapat menghasilkan makanannya sendiri.
- 4 Makhluk hidup pemakan tumbuhan.
- 5 Makhluk hidup yang memakan makhluk hidup lainnya.
- 8 Hasil penguraian dekomposer yang membuat tanah menjadi subur.
- 9 Makhluk hidup yang berperan sebagai dekomposer.