

Прізвище, ім'я _____

Практична робота. Порівняння екваторіального і субекваторіального клімату Африки за кліматичними діаграмами.

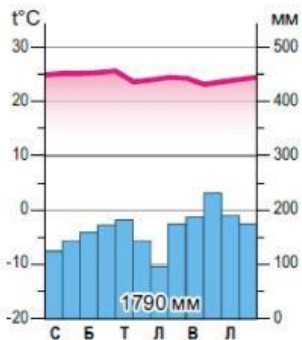
Мета: формувати вміння працювати з географічною інформацією, аналізувати кліматограми, скласти порівняльну характеристику двох кліматичних поясів материка за планом.

Обладнання: атлас, кліматограми, план характеристики кліматичного поясу.

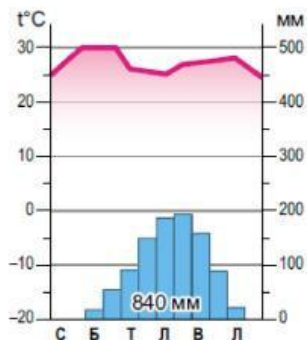
Хід роботи

Скласти порівняльну характеристику екваторіального і субекваторіального кліматичних поясів за матеріалами підручника § 22 (стор.83-89), кліматограмами. Заповни таблицю.

Назва кліматичного поясу	Географічне положення	Тип повітряних мас	Елементи клімату				
			Середня, t° C		Панівні вітри	Річна кількість опадів, мм	Режим опадів
			січня	липня			
Екваторіальний							
Субекваторіальний							



Мал. 59. Кліматограма екваторіального клімату







Мал. 60. Кліматограма субекваторіального клімату



Висновок: виконай наступні завдання.

1. Розмістіть правильно властивості кліматичних поясів Африки

Тут є два типи клімату: пустельний і вологий	Незначна кількість атмосферних опадів та вологість повітря	Узимку іноді випадає сніг	Чергуються вологий літній та сухий зимовий сезони	Літо сухе та спекотне, а зима тепла й волога	Узимку панують вологі повітряні маси помірних широт	Увесь час спекотно	Атмосферні опади завжди рясні (від 2000 до 3000 мм)
У сухий період збільшуються добові коливання температури	Відносна вологість повітря 85 %	Взимку панує суха тропічна маса	Річна амплітуда температур низька (1–2 °C)	Високі температури повітря та ґрунту	Упродовж року панують пасати	Улітку панує екваторіальна волога повітряна маса	Температура повітря помітно коливається за сезонами

 Екваторіальний пояс	 Субекваторіальні пояси	 Тропічні пояси	 Субтропічні пояси
<input type="text"/>	<input type="text"/>	<input type="text"/>	<input type="text"/>
<input type="text"/>	<input type="text"/>	<input type="text"/>	<input type="text"/>

Тут є два типи клімату: пустельний і вологий	Незначна кількість атмосферних опадів та вологість повітря	Узимку іноді випадає сніг	Чергуються вологий літній та сухий зимовий сезони	Літо сухе та спекотне, а зима тепла й волога	Узимку панують вологі повітряні маси помірних широт	Увесь час спекотно	Атмосферні опади завжди рясні (від 2000 до 3000 мм)
У сухий період збільшуються добові коливання температури	Відносна вологість повітря 85 %	Взимку панує суха тропічна маса	Річна амплітуда температур низька (1–2 °C)	Високі температури повітря та ґрунту	Упродовж року панують пасати	Улітку панує екваторіальна волога повітряна маса	Температура повітря помітно коливається за сезонами



ЦЕЙ МАЛЮНОК, ЯКЩО У ВАС НЕ ПРОВАНТАЖАТЬСЯ МАЛЮНОКИ ДЛЯ ПЕРЕТЯГУВАННЯ.

Розгадайте кросворд

1. Холодна течія Атлантичного океану у південній півкулі сприяє формуванню посушливого клімату на західному узбережжі Африки
2. Тепла течія сприяє випаданню рясних опадів на південно-східному узбережжі
3. Графічне зображення особливостей клімату
4. Сильний теплий вітер, що дме із Сахари до країн Середземномор'я
5. Спекотний, сухий, поривчастий і короткотривалий вітер, який найчастіше дме у пустелях Північної Африки
6. Постійний вітер, що дме з тропіків
7. Морська течія, однойменна з відомими островами
8. Кількість кліматичних поясів у Африці
9. Найбільша пустеля світу та Африки

