

Lembar Kerja Peserta Didik

# LKPD

## KOMPOSISI BANGUN DATAR

Nama Kelompok: \_\_\_\_\_

Nama Anggota :

1. \_\_\_\_\_
2. \_\_\_\_\_
3. \_\_\_\_\_
4. \_\_\_\_\_
5. \_\_\_\_\_





## **Tujuan Pembelajaran :**

1. Peserta didik dapat menyusun komposisi beberapa bangun datar dengan tepat.
2. Peserta didik dapat menentukan banyaknya bangun datar yang dapat disusun menjadi satu bangun dengan tepat

## **Petunjuk Pengerjaan :**

1. Bacalah instruksi sebelum mulai mengerjakan LKPD
2. Jawablah soal dengan tepat sesuai instruksi yang diberikan

**Alokasi Waktu : 15 Menit**

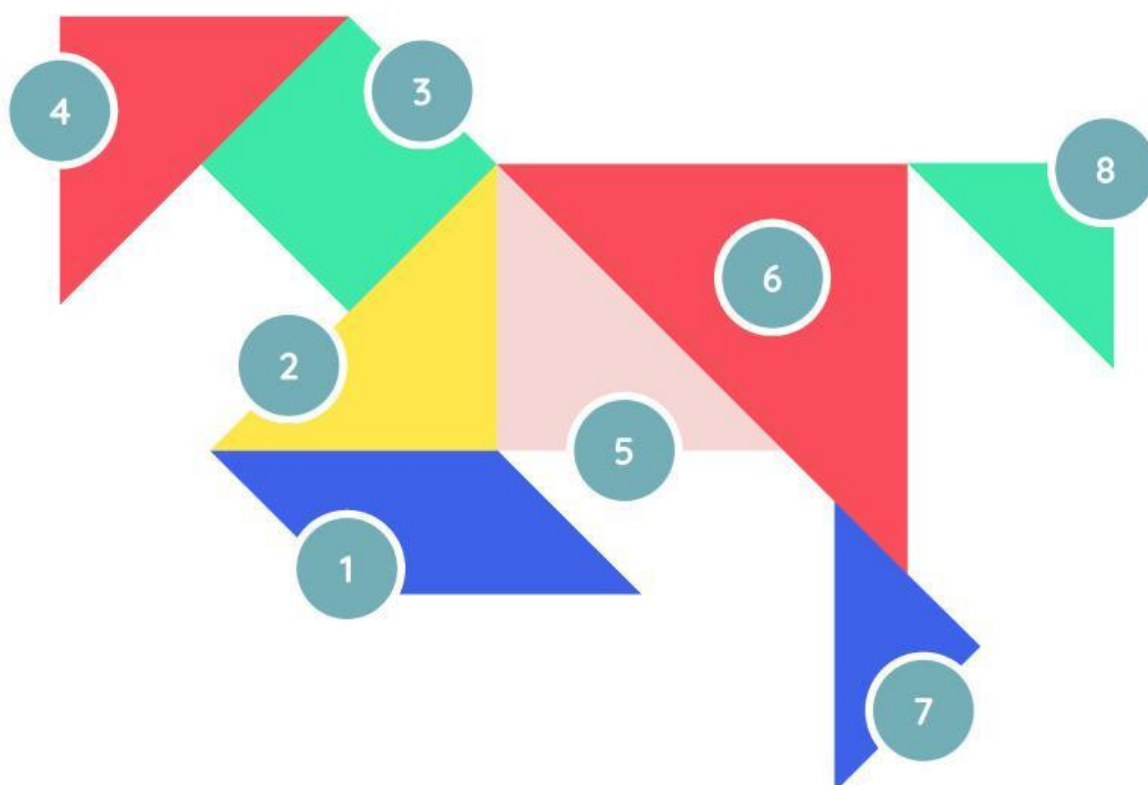


Nama Kelompok : .....

Kelas : .....

# Bangun Datar

Tuliskan nama bangun sesuai nomor yang diberikan.



1

.....

4

.....

7

.....

2

.....

5

.....

8

.....

3

.....

6


.....



Nama Kelompok :

Kelas:

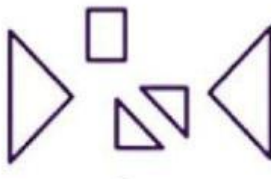
**Pasangkan Sesuai Dengan Bentuk!**

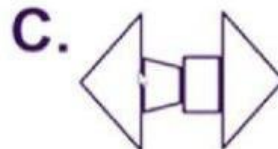



Nama Kelompok :

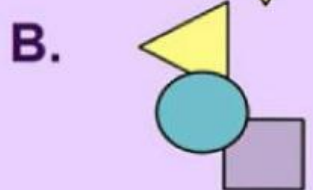
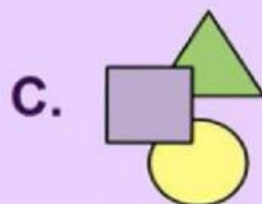
Kelas :


**Berilah tanda silang atau ceklis pada jawaban yang benar!**

**1**  Komposisi yang sesuai dengan bangun tersebut adalah... .



**2**  Komposisi bangun datar yang sesuai dengan bangun tersebut adalah ....



**3**  Komposisi bangun datar yang sesuai dengan bangun tersebut adalah... .

