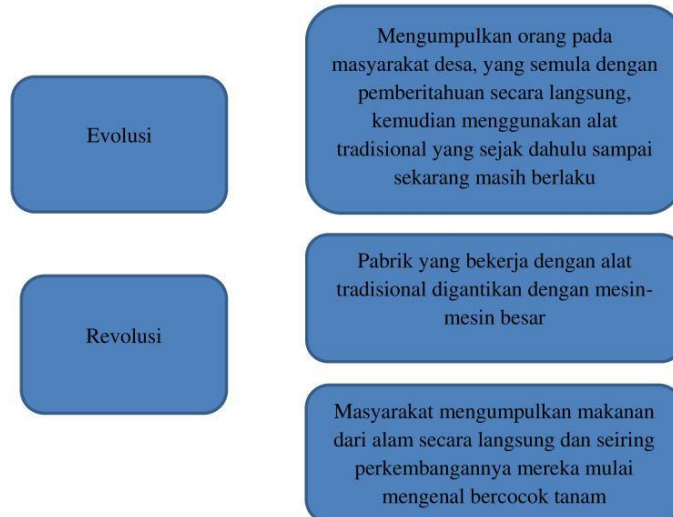




**YAYASAN JARI MUNGIL KREATIF
MADRASAH TSANAWIYAH TERPADU ALAM JAMUR
SUMATIF AKHIR SEMESTER BERBASIS ANDROID
TAHUN PELAJARAN 2024/2025**

**Mata Pelajaran IPS
Kelas IX
Rabu, 04 Desember 2024
Waktu mengerjakan jam 07.30 s/d 09.15 WITA**

1. Daerah tengah pada benua ini terletak di antara pegunungan timur dan dataran tinggi barat, yaitu Lembah Murray Darling serta dataran rendah Danau Eyre.
Pernyataan tersebut menunjukkan letak geologis Benua ...
a. Asia b. Australia c. Afrika d. Amerika
2. Perubahan sosial budaya yang terjadi di masyarakat tentu memiliki waktu yang berbeda-beda. Kecepatan perubahan sosial budaya setiap masyarakat berbeda-beda tergantung dari terbuka atau tidaknya suatu masyarakat. Di mana masyarakat industri akan mengalami perubahan sosial budaya lebih cepat dibandingkan perubahan pada masyarakat agraris. Hal yang sama juga dapat terjadi pada masyarakat perkotaan dan pedesaan. Masyarakat perkotaan memiliki tingkat perubahan sosial yang lebih cepat dibandingkan dengan masyarakat pedesaan karena mereka lebih terbuka terhadap hal-hal baru. Berdasarkan lamanya waktu yang diperlukan dalam proses perubahan, maka perubahan sosial dan kebudayaan dibedakan menjadi dua, yaitu perubahan secara lambat (evolusi) dan perubahan secara cepat (revolusi).
Perhatikan peristiwa dibawah ini, tentukanlah mana yang termasuk contoh peristiwa Evolusi dan peristiwa Revolusi dengan memasangkannya !



3. Interaksi antarnegara di Asia dan negara-negara lainnya meliputi berbagai bidang, seperti ekonomi, politik, budaya, dan teknologi. Kerja sama antarnegara di kawasan Asia telah berkembang pesat, baik dalam perdagangan maupun diplomasi. Negara-negara seperti Tiongkok, India, dan Jepang memainkan peran penting dalam ekonomi global, sedangkan negara-negara di Asia Tenggara bekerja sama melalui organisasi regional seperti ASEAN. Interaksi ini memperkuat hubungan antarbangsa dan mendorong pertumbuhan ekonomi serta stabilitas kawasan. Di sisi lain, hubungan antarnegara Asia dengan negara-negara lain di dunia, seperti Amerika Serikat dan negara-negara Eropa, juga berperan dalam mempengaruhi kebijakan internasional, aliansi strategis, dan pembangunan infrastruktur. Dari literasi tersebut, berilah tanda (√) pada pernyataan yang Benar atau Salah sesuai dengan ilustrasi cerita dibawah ini !

NO	PERNYATAAN	BENAR	SALAH
1	Jalur Sutra adalah Jalur transportasi kuno yang menghubungkan Asia dengan Eropa.
2	ASEAN adalah Organisasi regional di Asia Tenggara yang bertujuan memperkuat kerja sama ekonomi dan politik.
3	Tiongkok adalah Negara Asia yang terkenal sebagai produsen minyak terbesar di kawasan Timur Tengah.
4	Tiongkok adalah Negara Asia dengan pertumbuhan ekonomi tercepat di dunia dalam beberapa dekade terakhir.		

4. Menurut pendapat para ahli, pada awalnya bumi tidak terpecah seperti saat ini dan hanya terdiri atas satu benua maha luas yang disebut ...
 a. Gondwana b. Laurasia c. Pangea d. Tethys
5. Kota terbesar kedua di Jepang sebagai pusat industri tekstil adalah ...
 a. Tokyo b. Nagoya c. Kyoto d. Osaka
6. Alabama hingga Pennsylvania merupakan lokasi penambangan berupa ...
 a. Batu bara b. Minyak bumi c. Emas d. Timah
7. Perhatikan beberapa wilayah di Benua Afrika berikut dan berilah tanda (✓) pada pernyataan yang Benar atau Salah sesuai dengan wilayah di Afrika yang memiliki kepadatan penduduk tinggi!

NO	PERNYATAAN	BENAR	SALAH
1	Gurun Sahara
2	Sepanjang lembah sungai nil
3	Bagian tengah Afrika Tengah
4	Bagian timur Afrika Selatan		

8. Dika adalah warga negara Indonesia, karena ingin melihat keindahan negara di Benua Eropa, maka dia berlibur ke wilayah tersebut. Kegiatan Dika tersebut menunjukkan adanya pengaruh perubahan dan interaksi ruang antarnegara terhadap kehidupan...
 a. Pendidikan b. Budaya c. Sosial d. Politik
9. Wilayah negara Inggris yang mempunyai tingkat kepadatan penduduk tinggi adalah ...
 a. Wales b. London c. Irlandia d. Scotlandia
10. Gurun terdingin di dunia yang suhunya bisa mencapai -40°C dan berada di Benua Asia adalah gurun ...
 a. Arab b. Gobi c. Sahara d. Patagonia
11. Perhatikan dan tentukanlah pernyataan – pernyataan berikut ini yang sesuai dengan ciri-ciri benua dan samudra, dengan memberikan tanda (✓) pada pernyataan yang Benar atau Salah!

NO	PERNYATAAN	BENAR	SALAH
1	Berupa daratan yang luas
2	Berupa perairan yang luas
3	Bagian tengahnya kering tidak dikenai angin laut
4	Mengalami gerak bergeser sehingga ada yang berubah bentuk
5	Merupakan pemisah suatu tempat dengan tempat lainnya

12. Berdasarkan letak lintangnya, Benua Asia dilalui garis Khatulistiwa (0°) di bagian tenggara (Indonesia) dan garis balik utara pada lintang $23\frac{1}{2}^{\circ}\text{LU}$. Kondisi ini menyebabkan Benua Asia memiliki variasi iklim. Pasangkanlah beberapa variasi iklim tersebut sesuai dengan pengertiannya !

Iklim tropis	Iklim yang berciri curah hujan tinggi, kelembaban tinggi, dan suhu yang panas sepanjang tahun
Iklim Sedang	Iklim yang merupakan perpaduan antara iklim subtropis dengan iklim kutub, terdapat di kawasan sekitar Mongolia.
Iklim Kutub	Iklim yang berciri musim dingin yang panjang dan musim panas yang pendek
	Iklim yang berciri adanya empat musim

NO	PERNYATAAN	BENAR	SALAH
1	Kekayaan/ sumber daya alam yang melimpah
2	Sumber daya manusianya berkualitas tinggi
3	Menguasai pasar dunia
4	Penduduknya keturunan suku bangsa Ainu

a. Amerika Utara
b. Amerika Selatan
c. Eropa Selatan
d. Pantai timur Australia

NO	PERNYATAAN	BENAR	SALAH
1	Penemuan baru
2	Perubahan lingkungan
3	Kontak dengan kebudayaan lain
4	Peperangan

NO	PERNYATAAN	BENAR	SALAH
1	Perang dagang AS – Tiongkok
2	Penemuan mesin uap
3	Transmigrasi yang diterapka pemerintah
4	Revolusi Perancis

a. Asia b. Eropa c. Afrika d. Amerika

a. Kairo b. Luxor c. Alexandria d. Giza

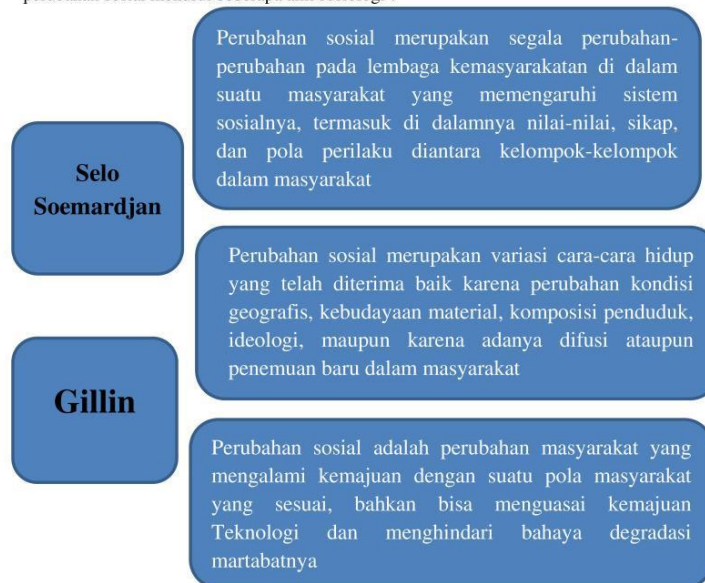
NO	PERNYATAAN	BENAR	SALAH
1	Berlangsung dalam kurun waktu yang lama
2	Terjadi secara bertahap
3	Berlangsung secara cepat
4	Harus ada momentum yang tepat

a. Konflik b. Inovasi c. Revolusi d. Peperangan

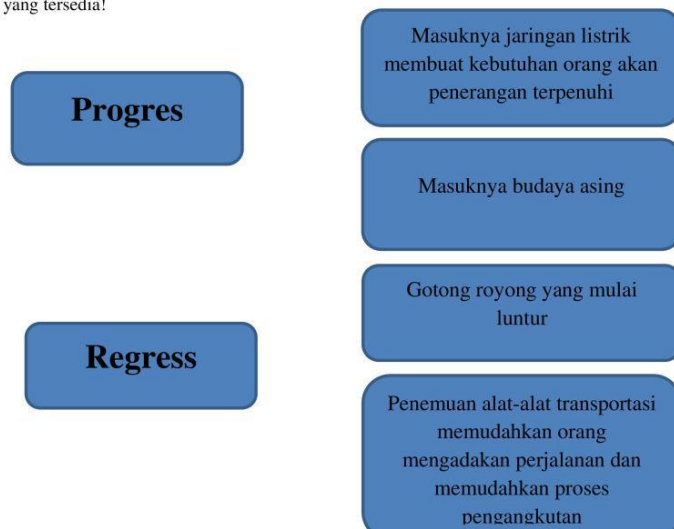
21. Berilah tanda (✓) pada pernyataan yang Benar atau Salah yang merupakan dampak positif dari perubahan sosial budaya.

NO	PERNYATAAN	BENAR	SALAH
1	Berkembangnya lembaga-lembaga sosial baru
2	Pesatnya perkembangan teknologi
3	Kebutuhan masyarakat sulit terpenuhi
4	Pola pikir masyarakat yang mundur
5	Kemajuan ilmu pengetahuan

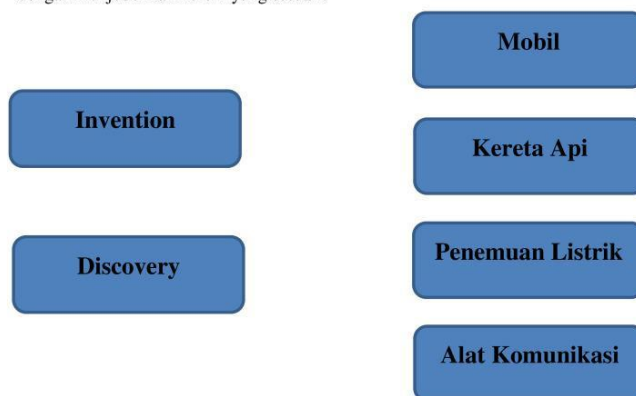
22. Masyarakat merupakan kumpulan kelompok-kelompok yang membentuk organisasi sosial dan bersifat kompleks. Dalam kehidupan bermasyarakat di mana pun pasti akan mengalami perubahan sosial. Perubahan sosial terjadi sebagai akibat adanya interaksi antar manusia dan antar kelompok, sehingga antara mereka terjadi proses saling memengaruhi yang menyebabkan terjadinya perubahan sosial. Adapun untuk menjelaskan mengenai perubahan sosial, para ahli telah memberikan berbagai definisinya. Pasangkanlah beberapa pengertian perubahan sosial menurut beberapa ahli sosiologi !



23. Perubahan yang terjadi di masyarakat, jika didasarkan pada arah perubahannya maka ada yang membawa pada arah kemajuan, namun juga ada yang membawa pada arah kemunduran. Jika arah kemajuan yang dituju oleh perubahan, maka kemudahan akan diperoleh masyarakat. Sebaliknya, jika kemunduran yang terjadi, maka akan ada berbagai dampak negatif yang diterima oleh masyarakat. Adapun jenis perubahan berdasarkan arah perkembangannya dapat dibedakan menjadi dua, yaitu perubahan sebagai suatu kemajuan dan perubahan sebagai suatu kemunduran. Perhatikan peristiwa dibawah ini, tentukanlah mana yang termasuk contoh peristiwa perubahan sebagai suatu kemajuan (Progres) dan peristiwa perubahan sebagai suatu kemunduran (Regress) dengan memasangkan kolom yang tersedia!



24. Setiap orang tentu menginginkan perubahan, terutama ke arah yang lebih baik. Oleh karenanya, perubahan terjadi karena adanya faktor internal masyarakat itu sendiri. Dengan cipta, rasa, dan karsa, manusia menghasilkan penemuan-penemuan baru dalam upaya memenuhi kebutuhan hidupnya. Penemuan-penemuan baru tersebut disebarluaskan, sehingga diterima oleh masyarakat lain, dipelajari, dan akhirnya dipakai. Adapun penemuan-penemuan baru secara umum bisa dibedakan menjadi dua macam, sebagai Penciptaan (Invention) yaitu suatu penemuan baru yang telah diakui, diterima, dan diterapkan atau digunakan masyarakat dan Discovery yaitu penemuan dari suatu unsur kebudayaan baru, baik yang berupa suatu alat baru, ataupun berupa suatu ide baru, yang diciptakan oleh seorang individu atau suatu rangkaian ciptaan-ciptaan dari individu-individu dalam masyarakat yang bersangkutan. Perhatikan tampilan dibawah ini, tentukanlah mana yang termasuk contoh penemuan-penemuan baru yang termasuk Invention atau Discovery, dengan menjodohkan kolom yang sesuai !



25. Suatu proses penyebaran unsur-unsur kebudayaan dari individu ke individu lain dan dari masyarakat ke masyarakat lain disebut ...
 a. Akulturasi b. Difusi c. Asimilasi d. Integrasi
26. Laju perubahan sosial budaya setiap daerah berbeda-beda. Masyarakat kota lebih cepat mengalami perubahan dibandingkan dengan masyarakat desa. Faktor penyebab perubahan sosial dapat dikelompokkan menjadi dua, yaitu faktor dari dalam masyarakat itu sendiri (faktor internal) dan faktor yang bersumber dari luar masyarakat (faktor eksternal). Dibawah adalah beberapa contoh perubahan Internal, tentukan benar atau salah dengan memberikan tanda (✓) pada kolom yang tersedia !

NO	PERNYATAAN	BENAR	SALAH
1	Di daerah A jumlah penduduknya berkurang karena adanya transmigrasi dan urbanisasi penduduk dari desa ke kota
2	Penemuan yang berisat mengembangkan atau menambah suatu kebudayaan dalam masyarakat
3	Proses penyesuaian kelompok asing terhadap kebudayaan setempat

27. Penemuan unsur kebudayaan baru baik berupa alat-alat atau gagasan, namun belum bisa diterima masyarakat secara luas disebut ...
 a. Inovasi b. Discovery c. Invention d. Evolusi
28. Perilaku positif yang muncul dalam perubahan sosial budaya di era globalisasi adalah ...
 a. Donstrasi b. Pola pikir modern c. Aksi protes d. Pergolakan daerah
29. Berdasarkan garis lintangnya, kawasan Asia Tenggara beriklim tropis. Dibawah adalah beberapa ciri-ciri iklim di kawasan Asia Tenggara. Tentukan benar atau salah dengan memberikan tanda (✓) pada kolom yang tersedia !

NO	PERNYATAAN	BENAR	SALAH
1	Curah hujan tinggi karena pengaruh adanya angin Monsum Barat
2	Suhu udara panas, karena berada di dekat garis ekuator
3	Karena daerahnya kering maka banyak dijumpai padang rumput dan padang pasir

30. Pembangunan merupakan proses perubahan sosial yang bersifat ...
 a. Terlaksana c. Terarah dan terencana
 b. Penyesuaian norma d. Lapisan sosial