



HARMONI dalam EKOSISTEM.

# ***LKPD IPAS KELAS 5***

Presentasi

Hasnawati, S.Pd

13 November 2024



# Tugas Kelompok

disusun oleh

Kelompok

Cerdas

# MATERI PERTAMA





## Jawablah pertanyaan berikut berdasarkan Gambar di atas!

1


Berdasarkan gambar di atas, Yang berperan sebagai konsumen adalah....

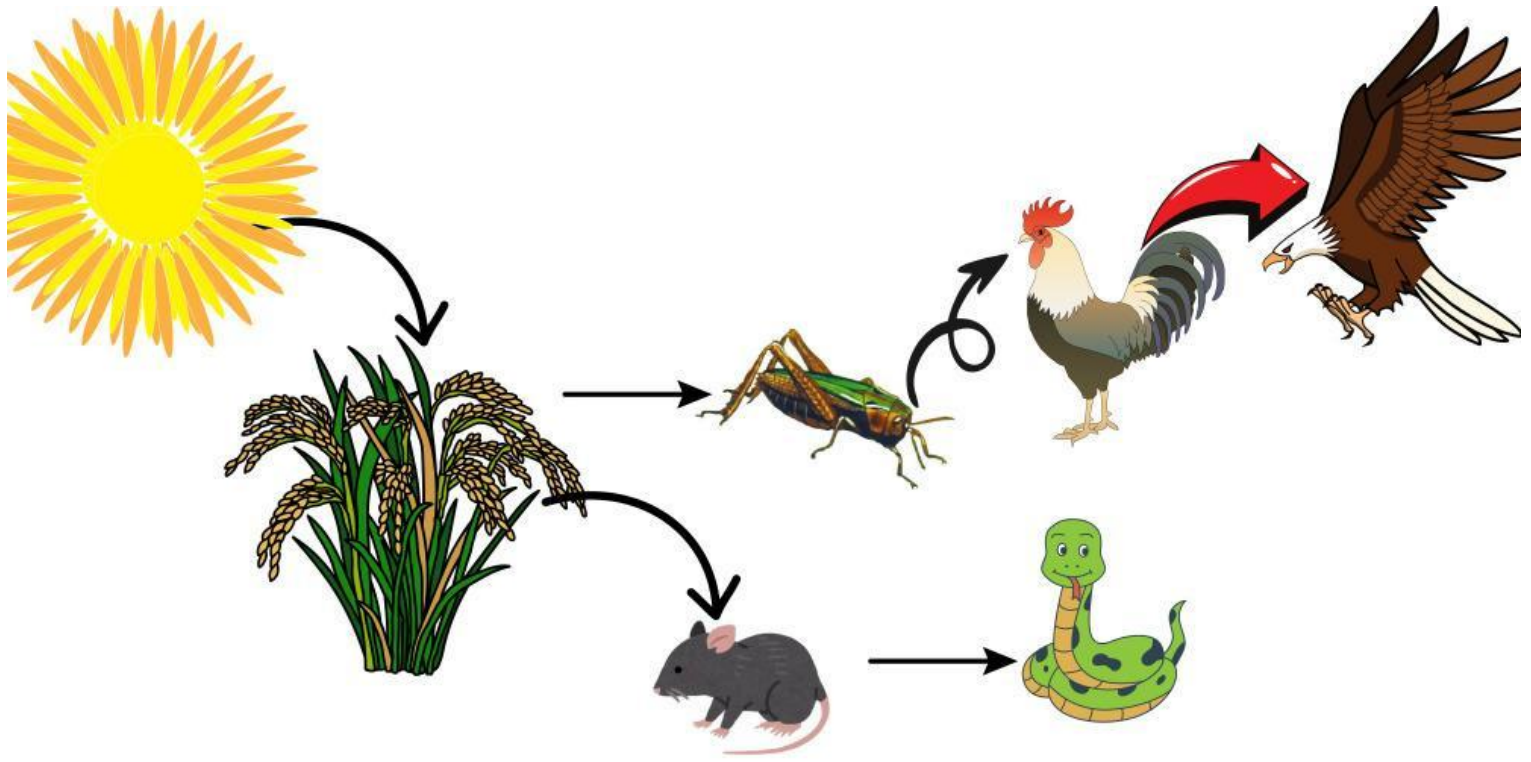
2

Semua makhluk hidup di bumi memperoleh energinya dari....

3

Kumpulan beberapa kelompok spesies yang hidup bersama dalam suatu kawasan adalah....







# Jawablah pertanyaan berikut sesuai gambar!

1


Berdasarkan gambar di atas apabila populasi ulat turun, maka yang akan terjadi adalah....

2

Pada ekosistem sawah, yang berperan sebagai produsen adalah....

3

Berdasarkan gambar di atas, yang berperan sebagai konsumen tingkat dua adalah....



**Terima  
Kasih**

