

LEMBAR KERJA PESERTA DIDIK

LKPD

MATEMATIKA

Operasi Hitung Penjumlahan

Kelas 1 Fase A

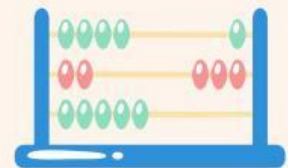
Disusun Oleh :
Kelompok 3



TUJUAN LKPD

1. Untuk membantu Peserta didik memahami konsep penjumlahan
2. Untuk memahami proses penggabungan dua kelompok benda atau bilangan serta dapat melakukan penjumlahan dengan hasil maksimal

PETUNJUK PENGGUNAAN



1. Mulailah bekerja dengan mengucapkan basmallah
2. Tulis nama dan kelas pada Lembar kerja Peserta didik
3. Kerjakan LKPD dengan menghitung jumlah benda yang ada pada gambar halaman LKPD
4. Periksa Kembali jawabanmu sebelum dikumpulkan



NAME:



Canva



DATE:



Canva


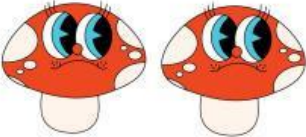
PENJUMLAHAN SEDERHANA



Hitung dan tuliskan hasil penjumlahan di bawah ini pada kotak yang telah disediakan!

 $+$  $=$

 $+$  $=$

 $+$  $=$

 $+$  $=$

 $+$  $=$