











JODOHKANLAH GAMBAR DENGAN NAMA PERANGKAT BERIKUT!

No	Foto Peranti
1	
2	
3	
4	
5	
6	
7	
8	
9	
10	

PRINTER
HARDISK
AMD RYZEN
MICROPHONE
MICRO SD
DRAWING TABLET
KEYBOARD VIRTUAL
SPEAKER
VGA
JOYSTICK

KATEGORIKANLAH PERANGKAT KERAS BERIKUT DALAM KELOMPOK YANG BENAR!

No	Foto Peranti	Kategori			
		Input	Pemroses	Output	Stroge
1					
2					
3					
4					
5					
6					
7					
8					
9					
10					

JAWABLAH PERTANYAAN BERIKUT INI!

1. Perangkat keras adalah

--

2. Apakah yang kamu ketahui tentang CPU

--

3. Apakah yang kamu ketahui tentang RAM

--

Untuk menjawab soal 4 dan 5 Perhatikan gambar perangkat berikut ini!



4. Yang termasuk kedalam perangkat keras berupa perangkat masukan (Input Devices) adalah
- 1 dan 2
 - 1 dan 4
 - 2 dan 3
 - 2 dan 5
5. Bagian yang termasuk perangkat keras berupa pemrosesan yaitu Read Only Memory (ROM) yang ditunjukkan pada gambar
- 1
 - 2
 - 3
 - 4

PASANGKANLAH KETERANGAN DENGAN GAMBAR YANG TEPAT!

No	Keterangan	Gambar	
1	Teknologi Penyimpanan awan		
2	Tempat untuk memasang processor, memori, hddisk dan komponen lainnya		
3	Peranti komputer yang berfungsi untuk untuk memproses keluaran dari CPU untuk ditampilkan ke layar monitor		
4	Jenis memori yang sangat cepat digunakan untuk menyimpan data sementara saat komputer memproses data atau mengeksekusi perintah		
5	Bagian utama dari komputer yang bertugas untuk melaksanakan keseluruhan operasi.		