

1








จากโปรแกรมบัตรคำสั่ง
ต้องการให้ลิงเก็บกล้วยไปให้ลูกลิง 1 ลูก
โดยใช้เส้นทางที่ใกล้ที่สุด คือข้อใด



- ก 1 เดินขวา 2 เดินขวา 3 เดินลง
- ข 1 เดินขวา 2 เดินขวา 3 เดินขวา 4 เดินขวา
- ค 1 เดินขวา 2 เดินขวา 3 เดินหน้า 4 เดินหน้า

2

จากโปรแกรมบัตรคำสั่ง
ต้องการให้ลิงเก็บกล้วยไปให้ลูกลิง 2 ลูก คือข้อใด

ก

- 1 → เดินขวา
- 2 → เดินขวา
- 3 ↓ เดินลง
- 4 → เดินขวา
- 5 → เดินขวา
- 6 ↑ เดินหน้า

ข

- 1 → เดินขวา
- 2 → เดินขวา
- 3 → เดินขวา
- 4 ↑ เดินหน้า
- 5 ↑ เดินหน้า
- 6 ← เดินซ้าย








ค

- 1 → เดินขวา
- 2 → เดินขวา
- 3 → เดินขวา
- 4 ↑ เดินหน้า
- 5 ↑ เดินหน้า
- 6 ↑ เดินหน้า
- 7 → เดินขวา



3

จากโปรแกรมบัตรคำสั่ง
ต้องการให้ลิงเก็บมะพร้าว 1 ลูกและกล้วย 1 ลูก
ไปให้ลูกลิง ต้องใช้บัตรคำสั่งข้อใด

ก

- 1 → เดินขวา
- 2 → เดินขวา
- 3 ↓ เดินลง
- 4 → เดินขวา
- 5 → เดินขวา
- 6 ↑ เดินหน้า

ข








- 1 → เดินขวา
- 2 → เดินขวา
- 3 → เดินขวา
- 4 ↑ เดินหน้า
- 5 ↑ เดินหน้า
- 6 ← เดินซ้าย

ค

- 1 → เดินขวา
- 2 → เดินขวา
- 3 → เดินขวา
- 4 ↑ เดินหน้า
- 5 ↑ เดินหน้า
- 6 ↑ เดินหน้า
- 7 → เดินขวา

4

จากโปรแกรมบัตรคำสั่ง
ต้องการให้ลิงเก็บมะพร้าว 2 ลูก ไปให้ลูกลิง
ต้องใช้บัตรคำสั่งข้อใด








ก

- 1  เดินขวา
- 2  เดินขวา
- 3  เดินลง
- 4  เดินขวา
- 5  เดินขวา
- 6  เดินหน้า

ข

- 1  เดินขวา
- 2  เดินขวา
- 3  เดินขวา
- 4  เดินหน้า
- 5  เดินหน้า
- 6  เดินซ้าย

ค

- 1  เดินขวา
- 2  เดินขวา
- 3  เดินขวา
- 4  เดินหน้า
- 5  เดินหน้า
- 6  เดินหน้า
- 7  เดินขวา

5

จากโปรแกรมบัตรคำสั่ง
ต้องการให้ลิงเก็บกล้วยไปให้ลูกลิง 1 ลูก
โดยใช้เส้นทางที่ไกลที่สุด คือข้อใด



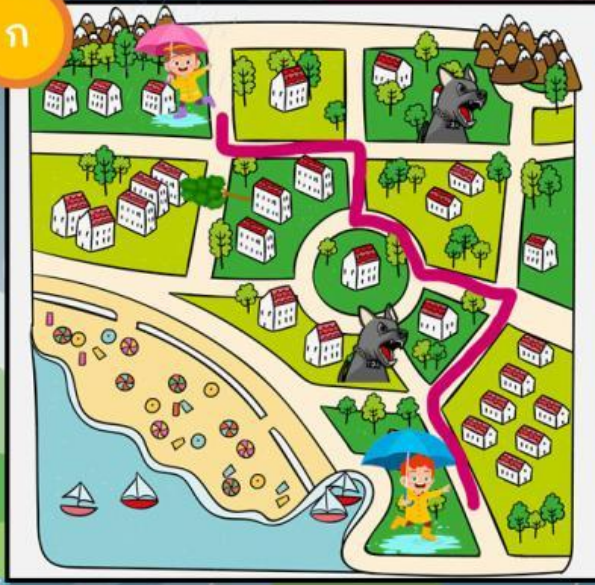
- ก 1 เดินขวา 2 เดินขวา 3 เดินลง
- ข 1 เดินหน้า 2 เดินหน้า
- ค 1 เดินขวา 2 เดินขวา 3 เดินหน้า 4 เดินหน้า

1

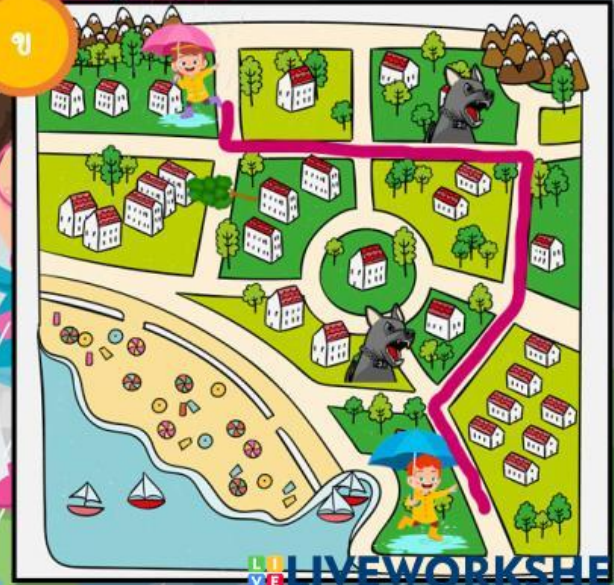
เส้นทางไหนที่โป่งไปหาถ้วยโดยที่สุนัขไม่กัด



ก



ข

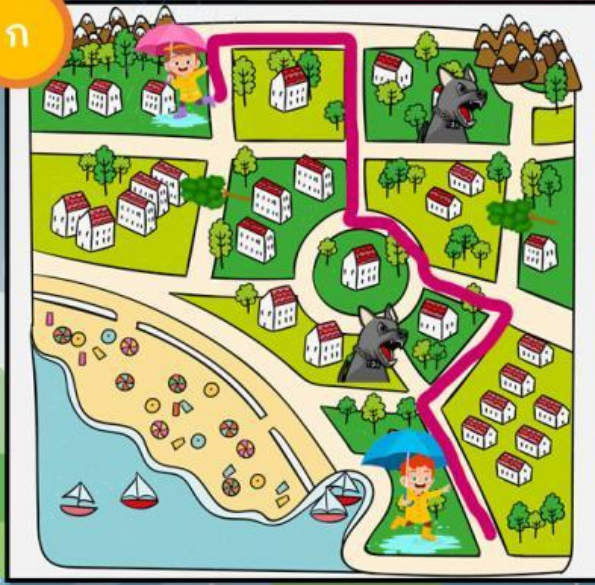


2

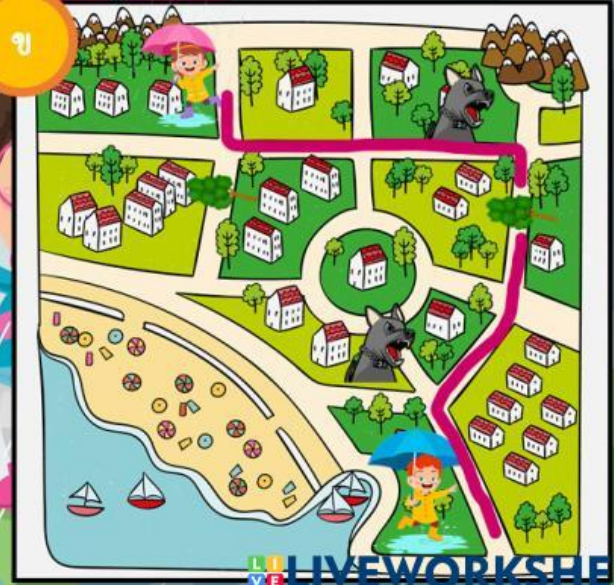
เส้นทางไหนที่โป๊งไปหาก็่อย
โดยที่ไม่มีต้นไม้ขวาง



ก



ข

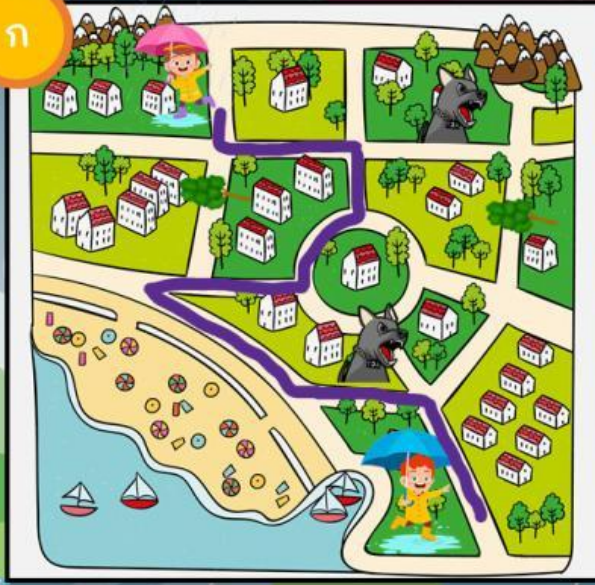


4

เส้นทางไหนที่โป้งเดินทางไปหาท้อย
อย่างปลอดภัย โดยต้องเดินผ่านชายหาด



ก



ข

