

Lembar Kerja Peserta Didik

# LKPD

Pola Gambar



Nama : \_\_\_\_\_

Kelas : \_\_\_\_\_



## **LKPD**

# **Pola Gambar**



## **Tujuan Pembelajaran**

- Peserta didik dapat mengidentifikasi pola gambar membesar dan mengecil yang melibatkan penjumlahan dan pengurangan pada bilangan cacah sampai 100
- Peserta didik dapat mengembangkan pola gambar membesar dan mengecil yang melibatkan penjumlahan dan pengurangan pada bilangan cacah sampai 100

## **Petunjuk Umum**

1. Berdoalah sebelum memulai mengerjakan LKPD.
2. Lengkapi nama dan kelas terlebih dahulu.
3. Jawablah setiap pertanyaan dan isi sesuai dengan perintah yang diberikan.
4. Jika mengalami kesulitan atau ada pertanyaan yang kurang dipahami, tanyakan kepada guru.

### **Petunjuk Pengerjaan**

- Mengenali pola gambar yang telah di ilustrasikan secara tersusun rapi kekanan
- perhatikan secara seksama apakah pola gambar mengecil atau membesar
- Setelah mengidentifikasi pola gambar, carilah selisih antara gambar yang telah ditampilkan.
- Setelah menemukan selisih yang benar, uraikanlah dalam bentuk tabel jawaban dari pertanyaan pada LKPD pola gambar.



## Informasi penting

Untuk memahami materi pembelajaran silahkan pahami informasi penting dibawah ini!



## Materi

Pola gambar adalah susunan gambar yang ditata sehingga membentuk suatu pola tertentu. Dimana pola gambar yang terbentuk akan melibatkan penjumlahan maupun pengurangan. Pola gambar terbagi menjadi dua yaitu pola gambar membesar dan pola gambar mengecil.

Pola gambar membesar dapat disebut membesar apabila semakin ke kanan maka jumlah benda akan semakin banyak.

Pada pola gambar mengecil dapat disebut mengecil apabila semakin ke kanan maka jumlah benda akan semakin sedikit.


**Nama :**

**Kelas:**

### **Pola Gmbar Membesar**

1. Perhatikan pola gambar dibawah
2. Tentukan selisih dari pola gambar tersebut

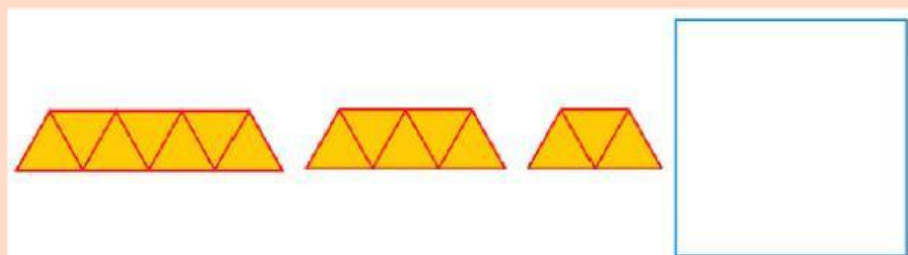
1. Berapa banyak buah selanjutnya sesuai pola gambar?



2. Berapa banyak bola selanjutnya sesuai pola gambar?



3. Banyak segitiga selanjutnya sesuai pola gambar?



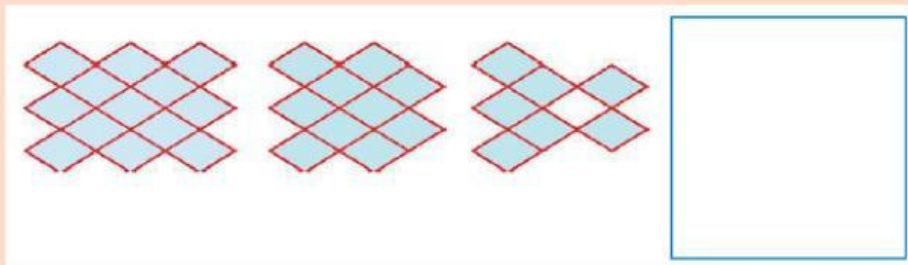
**Nama :**

**Kelas:**

### **Pola Gmbar Membesar**

1. Perhatikan pola gambar dibawah
2. Tentukan selisih dari pola gambar tersebut

4. Berapa Banyak ubin selanjutnya sesuai pola gambar?



5. Pilihlah salah satu gambar di kotak sebelah kanan untuk melengkapi kotak yang kosong di sebelah kiri, sesuai pola gambar yang diberikan.

