

LEMBAR KERJA PESERTA DIDIK

LKPD

MATEMATIKA

MATERI: PECAHAN DENGAN PEMBILANG SATU

DISUSUN OLEH: ELVINA MAULIZA (1221111016)

NAMA :

.....

KELAS :

.....

1 2 3



TUJUAN PEMBELAJARAN

1. Peserta didik mampu menentukan nilai pecahan dari gambar yang diberikan.
2. Peserta didik mampu membandingkan dua pecahan dengan pembilang satu dengan tepat.

PETUNJUK PENGGUNAAN!

1. Bacalah dengan seksama tujuan yang ada pada LKPD
2. Kerjakan LKPD ini secara individu
3. Tulislah nama dan kelas dengan benar
4. Lengkapi dan tulislah jawaban pada bagian-bagian yang masih kosong di LKPD ini dengan jawaban yang baik dan benar
5. Ikuti petunjuk sebelum mengerjakan LKPD
6. Lihatlah video pembelajaran yang telah disertakan
7. Tanyakan kepada guru jika terdapat hal yang tidak kamu mengerti

KEGIATAN 1

PETUNJUK Pengerjaan!

1. Scan barcode yang telah disediakan, lalu amati video pembelajaran yang telah diberikan
2. Pasangkan gambar dengan nilai pecahan yang telah diberikan dengan menarik sebuah garis
3. Periksa kembali jawaban anda sebelum mengumpulkannya

MATERI

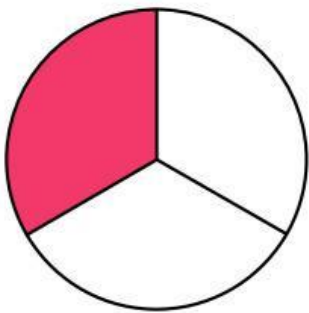
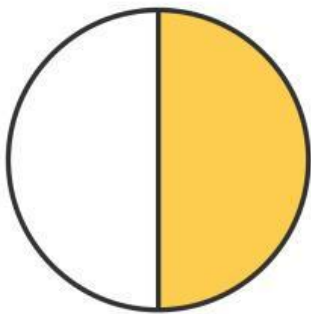
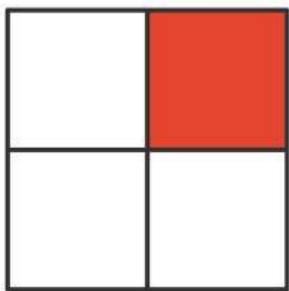
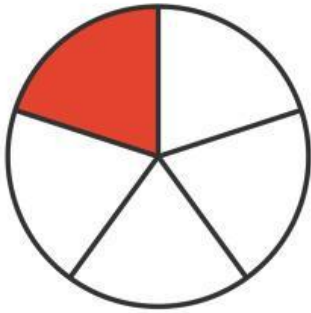


 SCAN ME

AYO BELAJAR BERSAMAKU!
SILAHKAN SCAN DAN
SELAMAT MENYAKSIKAN



TUGAS



$$\frac{1}{2}$$

$$\frac{1}{5}$$

$$\frac{1}{4}$$

$$\frac{1}{3}$$

KEGIATAN 2

PETUNJUK Pengerjaan!

1. Scan barcode yang telah disediakan, lalu amati video pembelajaran yang telah diberikan
2. Amati dan bandingkan pecahan yang telah diberikan
3. Periksa kembali jawaban anda sebelum mengumpulkannya

MATERI



SCAN ME

AYO BELAJAR BERSAMAKU!
SILAHKAN SCAN DAN
SELAMAT MENYAKSIKAN



TUGAS

