

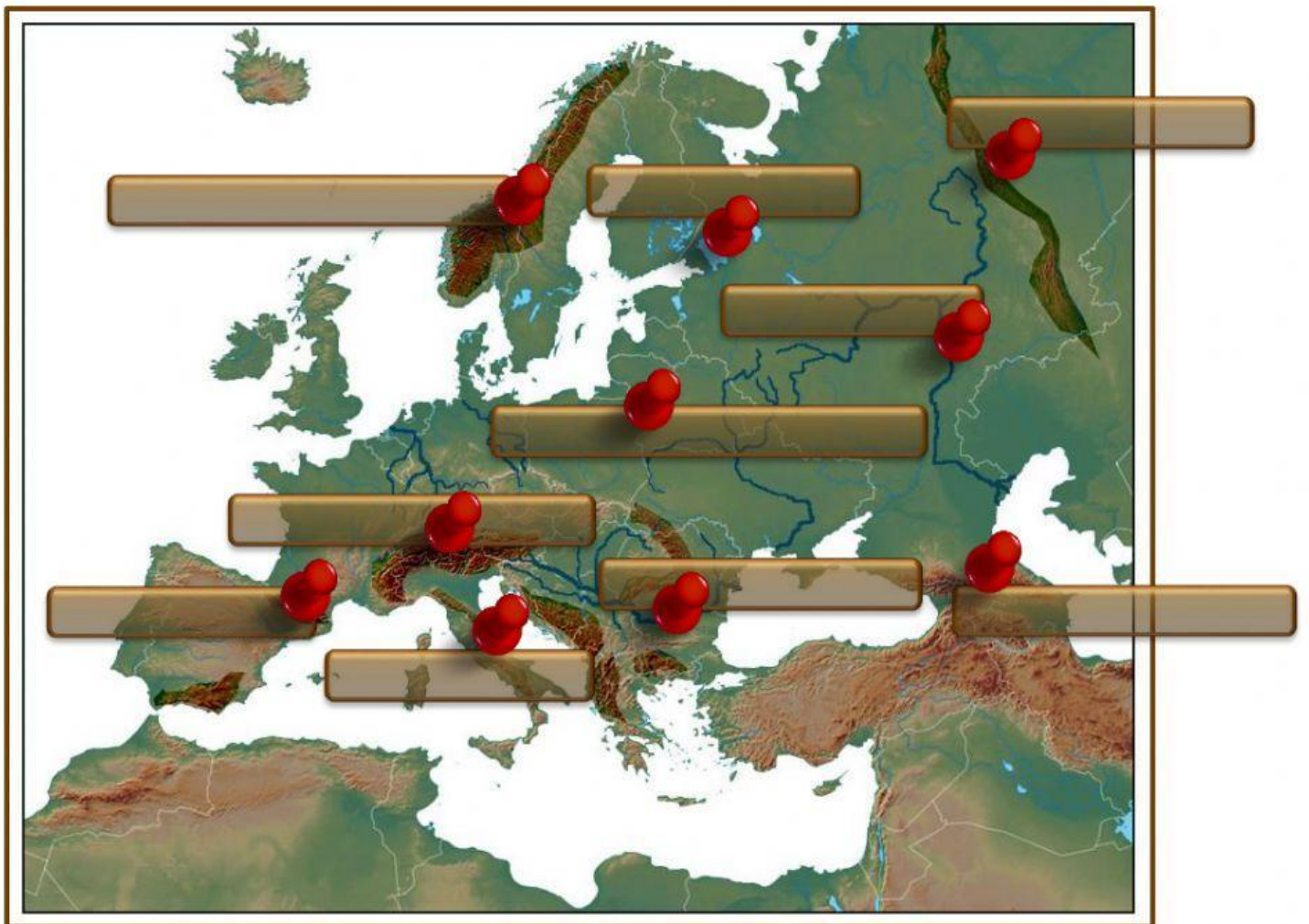
# Επαναληπτικό Διαγώνισμα

## Ευρώπη

1. Να σημειώσεις στα παρακάτω τετραγωνάκια τον αριθμό που αντιστοιχεί σύμφωνα με τον παρακάτω χάρτη:



- |                          |                      |                          |                               |
|--------------------------|----------------------|--------------------------|-------------------------------|
| <input type="checkbox"/> | Ατλαντικός ωκεανός   | <input type="checkbox"/> | Ιταλική χερσόνησος            |
| <input type="checkbox"/> | Κασπία θάλασσα       | <input type="checkbox"/> | Ιβηρική χερσόνησος            |
| <input type="checkbox"/> | Μεσόγειος θάλασσα    | <input type="checkbox"/> | Χερσόνησος Γιουτλάνδης- Δανία |
| <input type="checkbox"/> | Εύξεινος Πόντος      | <input type="checkbox"/> | Σκανδιναβική Χερσόνησος       |
| <input type="checkbox"/> | Θάλασσα Μάγχης       | <input type="checkbox"/> | Πορθμός Γιβραλτάρ             |
| <input type="checkbox"/> | Βαλτική θάλασσα      | <input type="checkbox"/> | Μεγάλη Βρετανία               |
| <input type="checkbox"/> | Βόρεια θάλασσα       | <input type="checkbox"/> | Ιρλανδία                      |
| <input type="checkbox"/> | Βαλκανική χερσόνησος | <input type="checkbox"/> | Ισλανδία                      |



2. Να τοποθετήσεις καθένα από τα παρακάτω ονόματα στο κατάλληλο σημείο του χάρτη:

Πεδιάδα Κεντρικής Ευρώπης

Ουράλια όρη

Καύκασος

Πυρηναία

Άλπεις

Βόλγας

Απέννινα όρη

Δούναβης

Σκανδιναβικές Άλπεις

Λαντόγκα



3. Κάνε κλικ σε ό,τι δεν ταιριάζει:

α) Ποια από τις παρακάτω χώρες δεν βρέχεται από τη Μεσόγειο θάλασσα;

Ιταλία     Γαλλία     Κροατία     Νορβηγία     Αλβανία

β) Από ποιες από τις παρακάτω χώρες δεν περνάει ο Δούναβης; (επίλεξε δύο)

Νορβηγία     Βουλγαρία     Ουγγαρία     Ην. Βασίλειο     Αυστρία





























γ) Ποια από τις παρακάτω χώρες δεν ανήκε στην πρώην Σοβιετική Ένωση;

Ρωσία     Ουκρανία     Ελβετία     Λευκορωσία     Αρμενία

δ) Ποια από τις παρακάτω χώρες δεν ανήκε στην πρώην Γιουγκοσλαβία;

Κροατία     Σλοβενία     Σερβία     Αλβανία     Κόσοβο

4. Να αντιστοιχίσεις τα κράτη με τις πρωτεύουσές τους:

Ουκρανία			Βαντούζ
Βοσνία-Ερζεγοβίνη			Κίεβο
Λιχτενστάιν			Κοπεγχάγη
Δανία			Σεράγεβο
Βέλγιο			Βρυξέλλες
Βουλγαρία			Ελσίνκι
Αζερμπαϊτζάν			Μόσχα
Φινλανδία			Βερολίνο
Ρωσία			Μπακού
Γερμανία			Σόφια
Ιρλανδία			Βαλέτα
Πορτογαλία			Δουβλίνο
Ανδόρα			Ανδόρα Λα Βέλια
Μάλτα			Λισαβόνα

Yes! Τα ξέρω όλα τέλεια!




5. Επίλεξε το σωστό για κάθε λέξη που λείπει στον παρακάτω πίνακα:

ΚΡΑΤΟΣ	ΠΡΩΤΕΥΟΥΣΑ	ΚΡΑΤΟΣ	ΠΡΩΤΕΥΟΥΣΑ
1. ΛΕΥΚΟΡΩΣΙΑ	→	6. ΛΕΤΟΝΙΑ	→
2.	→ Λουξεμβούργο	7.	→ Μαδρίτη
3. ΜΑΥΡΟΒΟΥΝΙΟ	→	8.	→ Άμστερνταμ
4. ΓΕΡΜΑΝΙΑ	→	9. ΓΕΩΡΓΙΑ	→
5.	→ Αγ. Μαρίνος	10.	→ Ερεβάν

Αναγνωρίζεις μήπως τις παρακάτω χώρες; Επίλεξε το σωστό πατώντας το βελάκι. Στη συνέχεια αντιστοίχισε τις πρωτεύουσες με την αντίστοιχη χώρα:



Ζάγκρεμπ    Ρώμη    Λονδίνο    Λευκωσία    Παρίσι    Ρέικιαβικ    Όσλο



ΚΑΛΗ ΕΠΙΤΥΧΙΑ!