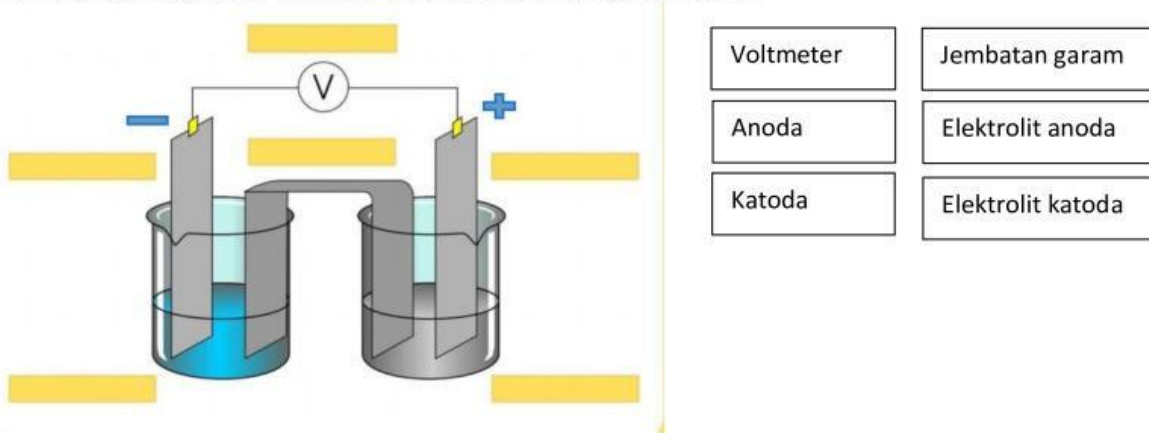
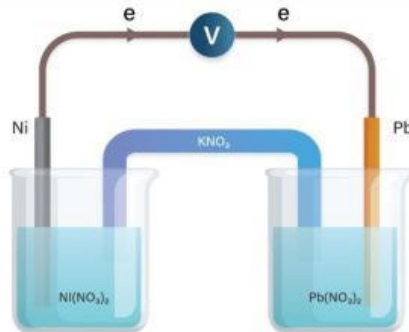


## PRETEST

1. Lengkapi bagian sel volta berikut pada kotak yang disediakan

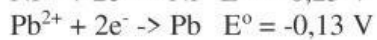


2. Amati gambar di bawah ini !



sumber <https://roboguru.ruangguru.com/>

Jika diketahui



Tentukan :

- Logam yang bertindak sebagai anoda ?
- Logam yang bertindak sebagai katoda ?
- Berapa potensial selnya ?
- Apakah reaksinya berlangsung spontan atau tidak?