

Họ và tên:.....

Lớp:.....

## PHIẾU ÔN TOÁN LỚP 1 TUẦN 8




Tin và Mi học làm bánh tặng sinh nhật mẹ. Em hãy giúp hai bạn ấy nhé!




**1** Em hãy giúp hai bạn ấy chọn trứng.

Khoanh tròn vào quả trứng có số lớn nhất:




Khoanh tròn vào quả trứng có số bé nhất:



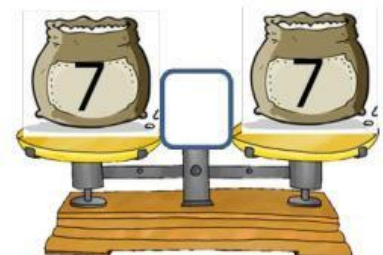
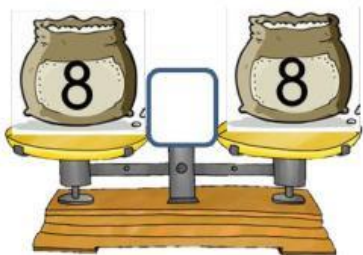
Sắp xếp các quả trứng theo thứ tự từ lớn đến bé:



Sắp xếp các quả trứng theo thứ tự từ bé đến lớn:



**2** Em hãy giúp hai bạn ấy cân bột bằng cách điền dấu  $>$ ,  $<$ ,  $=$  vào ô trống.




# PHIẾU ÔN TOÁN

## LỚP 1 TUẦN 8



3

Em hãy giúp hai bạn ấy chọn sữa bằng cách hoàn thành bài tập sau:




Số?



.....



.....



Có:...

Và:...

Có tất cả:...



4

Em hãy giúp hai bạn ấy trang trí bánh kem.

Tô màu cho đủ 7 cái bánh.



Tô màu cho đủ 8 cái bánh.

