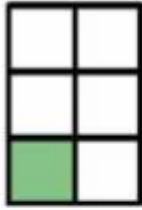


Bài 1. Số?



Đã tô màu hình chữ nhật




Đã tô màu hình chữ nhật



Đã tô màu hình tam giác

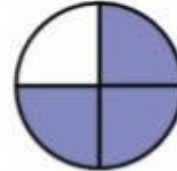


Chưa tô màu hình chữ nhật



Chưa tô màu hình chữ nhật

Chưa tô màu hình tròn



Bài 2. Số?



$\frac{1}{2}$ số cánh hoa là

... cánh hoa.



$\frac{1}{3}$ số miếng bánh là

... miếng bánh.



$\frac{1}{2}$ số miếng dưa hấu là

... miếng dưa hấu.

Bài 3. Khoanh vào $\frac{1}{6}$ số trái bơ:



4. Số?

Số bị chia	36	54		18	15		81		8
Số chia	4		7		5	8		9	
Thương		9	7	9		9	9	6	1

5. Số?

a. Chia 36 viên bi thành 6 phần bằng nhau. Số viên bi mỗi phần là..... viên bi.

b. Chia 36 viên bi thành 4 phần bằng nhau. Số viên bi mỗi phần là..... viên bi.

6. Nối:

$$? \times 2 = 10$$

$$? \times 2 = 16$$

$$? \times 4 = 16$$

5

8

4

9

7

$$28 : ? = 7$$

$$49 : ? = 7$$

$$? : 8 = 1$$

7. Trong vườn có 45 cây táo. Số cây cam bằng $\frac{1}{5}$ số cây táo. Hỏi trong vườn có bao nhiêu cây cam?

Bài giải

.....

.....

.....

8. Khi chuẩn bị cho buổi sinh nhật của mình, Việt đã xếp li vào 6 bàn. Mỗi bàn 6 cái li. Hỏi Việt cần lấy bao nhiêu cái li?

Bài giải

.....

.....

.....