





Nama :

Tanggal :

AYO BERHITUNG



Hitunglah hasil dari operasi penjumlahan dan isikan di kotak yang disediakan!

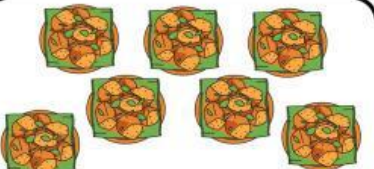

 $+$  $=$

 $+$  $=$

 $+$  $=$

 $+$  $=$

 $+$  $=$


















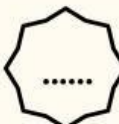






























 $+$  $=$

Nama :

Kelas :

POLA BILANGAN

Tentukan bilangan pada pola bilangan berikut!

1.  121  125   133  
2.  135   145  150  
3.  111  116  121   
4.  140   160  170  
5.  153    162  
6.    140  142  
7.    120   126  129
8.    165  170  

LATIHAN

NAMA :

KELAS :



Anto membuat gambar persegi di bukunya. Setiap sisi persegi memiliki panjang yang sama. Berapa jumlah sisi pada bangun datar persegi yang digambar Anto?



Pak Budi sedang membuat meja. Ia memastikan bahwa sudut-sudut meja tersebut berbentuk siku-siku. Berapa banyak sudut siku-siku yang dimiliki meja berbentuk persegi?



Di taman bermain, ada ayunan yang diikat dengan dua tali. Tali ayunan tersebut turun lurus dari atas ke bawah dan tidak pernah bersentuhan. Apakah tali-tali ayunan tersebut merupakan garis sejajar atau garis tegak lurus?




Nama:

Kelas:




Penjumlahan Sederhana


Jumlahkan sayuran pada setiap kotak di bawah ini!





+




=



=



+



=