

KEGIATAN Tema 7 SubTema 1 PB 5 dan 6

A. Isilah titik-titik di bawah ini dengan menggunakan kata yang tersedia dengan menarik garis



Burung berkembang biak dengan cara

● Tunas



Manusia berkembang biak dengan cara

● Bergerak



Pohon pisang berkembang biak dengan cara

● Tumbuh besar



Aku tahu kuda disebut benda hidup karena

● Beranak




Aku tahu ayam disebut benda hidup karena

● Bertelur



Aku tahu kucing disebut benda hidup karena

● Membutuhkan makanan



Aku tahu ulat disebut benda hidup karena

● Berkembang biak

B. Lengkapi nama bilangan dan nilai tempat sesuai bilangan yang ditunjuk

1. **66**

66 ditulis ...

... puluhan ... satuan

Jadi, 66 = ... + ...
... menempati puluhan.
... menempati satuan.

2. **75**

75 ditulis ...



... puluhan ... satuan

Jadi, 75 = ... + ...
... menempati puluhan.
... menempati satuan.

3.

89

89 ditulis ...



... puluhan

... satuan

Jadi, $89 = \dots + \dots$

... menempati puluhan.

... menempati satuan.

C. Tulis nama dan bilangan pada tabel berikut ini

1.

Puluhan	Satuan
30	4
.....	
Ditulis

2.

Puluhan	Satuan
40	7
,.....	
Ditulis