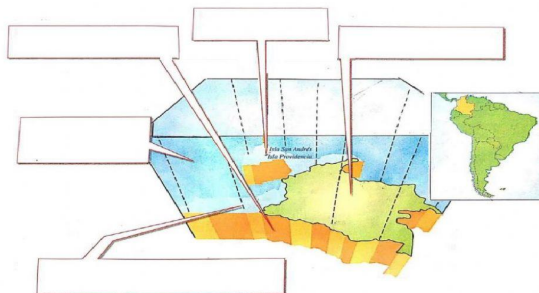


## EVALUACIÓN DE GEOGRAFÍA

I. Escribe los espacios que conforman el territorio colombiano




II. Completa el siguiente crucigrama:

### VERTICALES

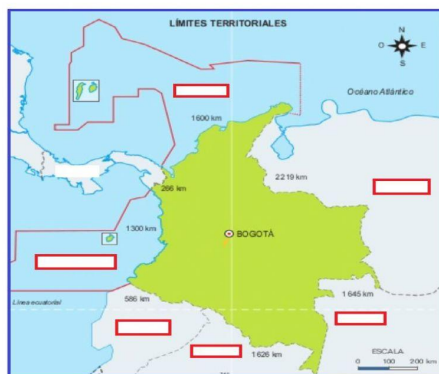
1. Espacio  es una franja de océano que se extiende por 370 km<sup>2</sup> aproximadamente.
3. Espacio  cubre desde el aire la superficie continental y marítima del país.

- HORIZONTALES**

2. Espacio  formado por las islas y archipiélagos en el mar Caribe como San Andrés y Providencia y en el Océano Pacífico como Malpelo y Gorgona.
4. Espacio  la parte profunda del territorio contiene riquezas minerales como oro, carbón y petróleo.
5. Espacio  el territorio del continente suramericano donde se encuentra población y las ciudades principales



III. Escribe los límites de Colombia según corresponda:



IV. Observa el mapa anterior y contesta las siguientes preguntas escogiendo **una sola respuesta**:

1. La frontera más larga de Colombia es la que comparte con:

- a. Perú
- b. Brasil
- c. Venezuela
- d. Ecuador

- 2. La frontera más corta de Colombia es la que comparte con:**

- Brasil.
- Costa Rica
- Venezuela
- Panamá

- 3. Una de las fronteras marítimas de Colombia es:**

- a. Mar Caribe
- b. Brasil
- c. Santa Marta
- d. Ecuador

4. De los siguientes países señale el que tiene con Colombia frontera terrestre y marítima en el Océano Pacífico y el mar Caribe:

- Brasil.
- Costa Rica
- Venezuela
- Panamá

V. Completa el siguiente cuadro teniendo en cuenta la organización territorial de nuestro país Colombia:

ENTIDAD TERRITORIAL	AUTORIDADES	EJEMPLOS (3)
	GOBERNADORES	
	NO APLICA	
MUNICIPIOS		
		KOGUI, EMBERA, TAIRONA.