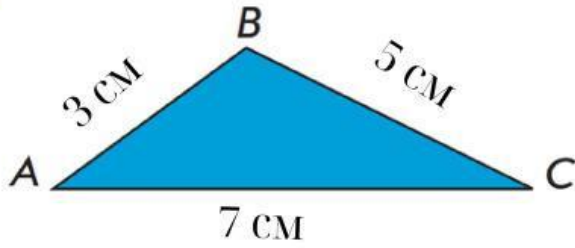
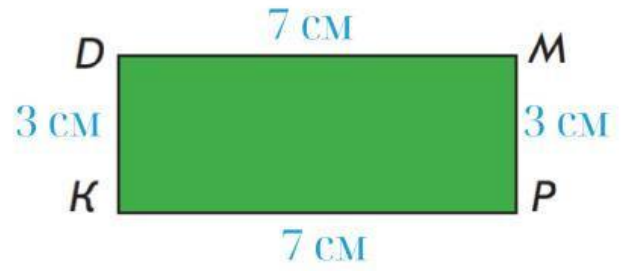


ОБЧИСЛЮЄМО ПЕРИМЕТР МНОГОКУТНИКА

1 Знайди суму довжин всіх сторін.



Всього _____ см.



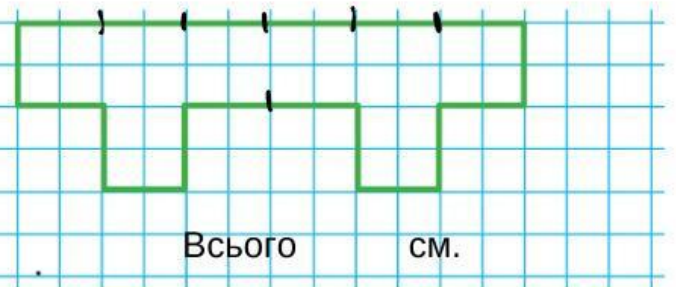
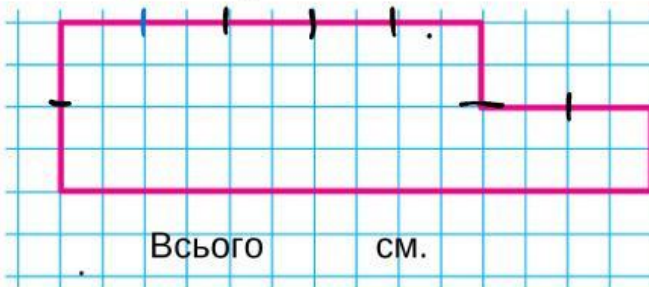
Всього _____ см.

» Сума довжин усіх сторін многокутника — це периметр.

Периметр многокутника — це довжина замкненої ламаної, яка обмежує цей многокутник.



2 Знайди периметр кожного многокутника, вважаючи, що дві клітинки — це 1 см.



3 Миколка почав розв'язувати задачу. Закінчи розв'язання.

➤ Сторони чотирикутника дорівнюють 6 см, 4 см, 8 см і 2 см. Знайди периметр фігури.



Задача

I — 6 см	} ?	Всього _____ см.
II — 4 см		
III — 8 см		
IV — 2 см		

4 Знайди значення різниць за схемами з коментарем.

$15 - 7 = \square$, оскільки $\square + 7 = 15$

$18 - 9 = \square$, оскільки $\square + 9 = 18$