



SOAL PEKAN FORMATIF IPS



TAHUN AJARAN 2024

**DISUSUN OLEH:
WATIK ANDRIANI
GURU KELAS 7**



KELAS :
















NO PESERTA :

I. SOAL PILIHAN GANDA

1. Salah satu komponen peta berupa identitas untuk mengetahui daerah dalam peta disebut

2. Pada peta A, jarak kota X ke kota Y adalah 5 cm dengan skala 1 : 1.500.000. Pada peta B, jarak kota X ke kota Y adalah 2 cm. Skala peta B adalah

3. Perhatikan tabel berikut ini

	= kantor desa		= jalan raya
	= puskesmas		= jalan kampung
	= terminal		= batas desa
	= tempat ibadah		= batas hutan/tegal
	= gedung sekolah		= orientasi / arah
	= pasar		
	= situ		
	= hutan		
	= sawah		
	= tegal		

Keterangan yang diperlukan peta pada umumnya menyajikan keterangan simbol, tanda atau singkatan yang digunakan dalam peta seperti pada tabel di atas disebut

4. Warna hijau pada peta menggambarkan daerah

5. Salah satu ciri manusia sebagai *Homo economicus*, yaitu manusia selalu

6. Perhatikan pernyataan berikut!

- 1) kondisi alam
- 2) kebiasaan
- 3) agama
- 4) usia
- 5) peradaban
- 6) sifat
- 7) pergaulan
- 8) cita-cita

Faktor-faktor yang mempengaruhi kebutuhan manusia, antara lain

7. Contoh kegiatan manusia untuk memenuhi kebutuhan sebagai berikut!

- 1) Pak Roni membeli televisi baru untuk keluarga
- 2) Ibu Siti membeli sayuran dan beras
- 3) Pak Michael berlangganan telepon dan internet
- 4) Doni membeli *handphone* untuk mendukung bisnis percetakan miliknya
- 5) Siti membeli perhiasan di toko emas

Berdasarkan contoh di atas pemenuhan kebutuhan sekunder ditunjukkan oleh nomor

8. Contoh benda yang dalam penggunaannya dapat saling menggantikan adalah

9. Pasir yang ada di sungai kurang berguna tetapi setelah ditimbang dan dijual ke toko material yang nantinya akan dibeli oleh pelanggan yang akan digunakan sebagai bahan bangunan akan lebih berguna, merupakan kegunaan benda yaitu guna....

10. Perhatikan gambar di bawah ini!



Gambar tersebut merupakan salah satu contoh kebutuhan sekunder bagi sebagian orang. Akan tetapi kebutuhan sekunder juga dapat berubah menjadi kebutuhan primer bagi sebagian masyarakat lainnya.

Kebutuhan sekunder dapat menjadi kebutuhan primer, dikarenakan ...

II. SOAL MENJODOHKAN

Jodohkanlah pernyataan-pernyataan berikut dengan jawaban yang tepat!

Pernyataan				Jawaban	
Obat bagi orang yang sakit dan jasa pemadam kebakaran	11	<input checked="" type="radio"/>	<input checked="" type="radio"/>	(a)	Kebutuhan tersier
Perbaikan jalan perdesaan atau pembangunan jembatan penghubung desa	12	<input checked="" type="radio"/>	<input checked="" type="radio"/>	(b)	Kebutuhan sekarang
Udara, sinar matahari, dan air	13	<input checked="" type="radio"/>	<input checked="" type="radio"/>	(c)	Kebutuhan kolektif
Mobil mewah, perhiasan, dan tas bermerek terkenal	14	<input checked="" type="radio"/>	<input checked="" type="radio"/>	(d)	Barang illith
Barang yang jumlahnya berlebihan akan merugikan manusia, misalnya api	15	<input checked="" type="radio"/>	<input checked="" type="radio"/>	(e)	Barang bebas

III. SOAL BENAR-SALAH

Bacalah artikel di bawah ini dengan teliti untuk menjawab soal nomor 16-18!

Aplikasi peta digital menjadi aplikasi paling penting dan wajib dimiliki oleh semua orang. Tidak hanya pengendara roda 4 dan roda 2 saja, namun pengguna transportasi umum dan pejalan kaki pun bisa menggunakan aplikasi peta digital ini. Aplikasi peta digital membantu pengguna dalam menemukan alamat atau lokasi yang akan dituju. Aplikasi peta digital juga membantu pengguna dalam mendapatkan informasi mengenai tingkat kepadatan lalu lintas di sepanjang jalan yang dilalui serta dapat membantu pengguna untuk mensurvei tempat yang akan dituju saat pergi berlibur. Seiring dengan berjalannya waktu aplikasi peta digital juga dapat dimanfaatkan sebagai media promosi usaha.

Perkembangan teknologi membawa inovasi-inovasi untuk memudahkan masyarakat melakukan perjalanan. Saat ini banyak mobil-mobil yang dijual sudah dilengkapi dengan fitur navigasi yang dengan mudah dapat mengarahkan pengemudi kemana pun tujuannya. Namun pengemudi yang mobilnya belum memiliki fitur navigasi bisa memanfaatkan aplikasi peta digital yang telah ada di ponsel.

Aplikasi peta digital yang banyak digunakan adalah aplikasi *google maps* dan *waze*. *Google maps* aplikasi peta digital pertama yang paling banyak digunakan oleh masyarakat, karena *Google maps* sendiri merupakan bawaan aplikasi yang ada di perangkat android. *Google maps* dibekali dengan fitur navigasi yang didukung dengan teknologi *Global Positioning System (GPS)* yang menyajikan informasi terkini dengan akurat.

Berilah tanda (✓) centang pada pernyataan **Benar** atau **Salah** di bawah ini!

No	Pernyataan	Benar	Salah
16	Peta digital tidak hanya digunakan oleh pengendara roda empat dan dua saja melainkan juga transportasi umum		
17	Aplikasi peta digital juga dapat memberikan informasi kemacetan yang terjadi di jalanan		
18	Peta digital hanya bisa dimanfaatkan sebagai penunjuk arah dan rute perjalanan saja		

Coba kamu amati dan identifikasi gambar di bawah ini untuk menjawab soal nomor 19-20!



Berilah tanda (√) centang pada pernyataan **Benar** atau **Salah** di bawah ini!

No	Pernyataan	Benar	Salah
19	Setiap manusia memiliki kelebihan dan kekurangan sehingga saling membutuhkan satu sama lainnya		
20	Manusia ekonomi yang bermoral adalah manusia yang berusaha memenuhi kebutuhan secara tidak berlebihan		

‘GOOD LUCK’